



BA – AÖL / 2012 – III.DÖNEM - Pazar 13.00

BEŞİNCİ OTURUM

TEST GRUBUNUZ

B

CEVAP KÂĞIDINIZA İŞARETLEMİYİ UNUTMAYINIZ.

ÖĞRENCİNİN

SOYADI :

ADI :

ÖĞRENCİ NO :

SINAV SALON NO: SIRA NO:

Soyadınızı, adınızı, öğrenci numaranızı, salon ve sıra numaranızı yukarıya yazmayı unutmayınız.

GENEL AÇIKLAMA

1. Bu soru kitapçığındaki testler şunlardır:

Testin Adı	Soru Sayısı	Sayfa No
DİN KÜLTÜRÜ VE AHLAK BİLGİSİ 2	20	2
DİN KÜLTÜRÜ VE AHLAK BİLGİSİ 5	20	4
TARİH 3	20	6
TC İNKILÂP TARİHİ VE ATATÜRKÇÜLÜK 1	20	9
COĞRAFYA 5	20	12
MATEMATİK 1	20	14
TURİZM 2	20	17
HUKUK 2	20	20
DİL VE ANLATIM 8	20	22
TÜRK EDEBİYATI 4	20	24
TÜRK EDEBİYATI 6	20	26

Testin Adı	Soru Sayısı	Sayfa No
FİZİK 5	20	28
EKONOMİ 1	20	30
BİYOLOJİ 6	20	32
ÇAĞDAŞ TÜRK VE DÜNYA TARİHİ 2	20	34
SEÇMELİ COĞRAFYA 3	20	36
SEÇMELİ YABANCI DİL 4 (ALM.4, FRA.4, İNG.4)	20	38
SAĞLIK BİLGİSİ 1	20	47
SEÇMELİ COĞRAFYA 4	20	49
SEÇMELİ TÜRK EDEBİYATI 5	20	51
GEOMETRİ 5	20	53
SEÇMELİ DİLVE ANLATIM 8	20	57

2. Bu kitapçıkta yer alan her bir test için cevaplama süresi **30** dakika, toplam sınav süresi **150** dakikadır.
3. Cevaplamaya istediğiniz testin, istediğiniz sorusundan başlayabilirsiniz. Yalnız cevaplarınızı, cevap kâğıdında o test için ayrılmış olan bölümdeki aynı numaralı cevap yerine işaretlemeyi unutmayınız.
4. Cevaplarınızı koyu siyah ve yumuşak bir kurşunkalemle işaretleyiniz. İşaretinizi cevap yerinin dışına taşırmayınız. Tükenmez veya mürekkepli kalem kullanmayınız.
5. Değiştirmek istediğiniz bir cevabı yumuşak bir silgi ile, cevap kâğıdını örselemeden temizce siliniz ve doğru cevabınızı işaretlemeyi unutmayınız.
6. Cevap kâğıdınızı buruşturmayınız, katlamayınız ve üzerine gereksiz hiçbir işaret koymayınız.
7. Bu kitapçıkta her sorunun bir tek doğru cevabı vardır. Bir soru için birden çok cevap yeri işaretlenmişse o soru yanlış cevaplanmış sayılacaktır.
8. Cevaplarınız puanlanırken her doğru cevabınıza eşit puan verilecek, yanlış cevaplarınız dikkate alınmayacaktır. Bu nedenle kitapçıkta tüm sorular için size doğru gelen seçeneği işaretleyerek cevapsız soru bırakmamanız yararınıza olacaktır.
9. Kitapçığın sayfalarındaki boş yerleri müsvedde için kullanabilirsiniz.

Anadolu Üniversitesi tarafından hazırlanmış olan bu testlerin her hakkı saklıdır. Hangi amaçla olursa olsun, testlerin tamamının veya bir kısmının Anadolu Üniversitesi'nin yazılı izni olmadan kopya edilmesi, fotoğraflarının çekilmesi, herhangi bir yolla çoğaltılması, yayımlanması ya da kullanılması yasaktır. Bu yasağa uymayanlar gerekli cezai sorumluluğu ve testlerin hazırlanmasındaki mali külfeti peşinen kabullenmiş sayılır.

DİN KÜLTÜRÜ VE AHLAK BİLGİSİ 2

B

2012 3D 0105-B

1. İlahi dinlere göre yaratılan ilk insan ve ilk peygamber kimdir?

- A) Hz. Yakup
- B) Hz. Süleyman
- C) Hz. İsa
- D) Hz. Yusuf
- E) Hz. Adem

2. Din ve devlet işlerinin birbirinden ayrılmasına, dinin de devletin de birbirlerine karışmamasına ne ad verilir?

- A) Demokrasi
- B) Taassup
- C) Bağnazlık
- D) Laiklik
- E) Devrimcilik

3. Aşağıdakilerden hangisi Türk milletinin milli seciyelerinden biri değildir?

- A) Yiğitlik
- B) İradesiz yaşama
- C) Minnetsiz yaşama
- D) Büyüklere saygı
- E) Hoşgörülü olma

4. Aşağıdakilerden hangisi dinin yasakladığı davranışlardan biridir?

- A) Cömert olmak
- B) Hayırsever olmak
- C) Kıskanç olmak
- D) Doğru söylemek
- E) Dürüst davranmak

5. Laik devlet ile ilgili aşağıdaki ifadelerden hangisi yanlıştır?

- A) Resmi bir dini yoktur.
- B) Dini, bir vicdan meselesi olarak görür.
- C) İnanç, cins, sınıf ayrımı yoktur.
- D) Herkes dinini seçmekte özgürdür.
- E) Kanunları hazırlarken din kurallarına uygunluk kıstası arar.

6. Aşağıdakilerden hangisi ilâhi dinlerden biridir?

- A) Şintoizm
- B) Yahudilik
- C) Taoizm
- D) Hinduizm
- E) Konfüçyüsçülük

7. Hz. Muhammed eş seçerken aranacak en önemli şartın ne olduğunu beyan etmiştir?

- A) Eğitilmiş olmak
- B) Güzel ahlâklı olmak
- C) Soylu olmak
- D) Güzel olmak
- E) Zengin olmak

8. Aşağıdakilerden hangisi Türk milletini birleştiren değerlerden biri değildir?

- A) Atatürk
- B) Sömürgecilik
- C) Bayrak
- D) Bağımsızlık
- E) Vatan ve ülkü birliği

9. Aşağıdakilerden hangisi insanın yaşadığı ülkenin vatandaşı olmakla sahip olduğu haklardan biri değildir?

- A) Beslenme
- B) Seçme ve seçilme hakkı
- C) Sağlık hakkı
- D) İnanmak
- E) Eğitim

10. Müslüman Türkler tarafından geliştirilen ve İslam alemine yayılan sanat dalı aşağıdakilerden hangisidir?

- A) Mimari
- B) Edebiyat
- C) Minyatür
- D) Heykelcilik
- E) Musiki

B

2012 3D 0105-B

11. Laiklik Avrupa'da hangi olaydan sonra yayılmıştır?

- A) Balkan Savaşı
- B) Birinci Dünya Savaşı
- C) Yüzyıl savaşları
- D) Fransız ihtilali
- E) İkinci Dünya Savaşı

12. Divanı Hikmet adlı eser kime aittir?

- A) Yunus Emre
- B) Hacı Bayram Veli
- C) Hoca Ahmet Yesevi
- D) Mevlâna
- E) Hacı Bektaş Veli

13. Osmanlı imparatorluğu'nda sultanların, halife sıfatıyla padişah sıfatını siyasi anlamda bir arada kullanmaya başlaması hangi antlaşmadan sonra olmuştur?

- A) Lozan
- B) Küçük Kaynarca
- C) Karlofça
- D) Sevr
- E) Ankara

14. "Emrolunduğun gibi dosdoğru ol..." ayetiyle anlatılmak istenen düşünce aşağıdakilerden hangisidir?

- A) Dürüst olmak
- B) Merhametli olmak
- C) Cesur olmak
- D) Yardımsever olmak
- E) Alçakgönüllü olmak

15. Kitap kenarlarının ve satır aralarının altın tozu, çiçek ve nakışlarla süslenmesine ne ad verilir?

- A) Tezhip
- B) Minyatür
- C) Hüsnü hat
- D) Tezyinat
- E) Ebrû

16. Aşağıdakilerden hangisi müspet (fen) ilimleri alanında yetişmiş alimlerden biridir?

- A) Ebu Hanife
- B) Maturidi
- C) Raz'i
- D) Zemahşeri
- E) Ali Kuşçu

17. Aşağıdakilerden hangisi laiklik ilkesine uygun gelişmelerden biri değildir?

- A) Din derslerinin yasaklanması
- B) Tevhid-i Tedrisat kanunu
- C) Tekke ve Zaviyelerin kapatılması
- D) Halifeliğin kaldırılması
- E) Medreselerin kapatılması

18. Mevlâna'nın hayatında dönüm noktası olan mürşidi aşağıdakilerden hangisidir?

- A) Şeyh Yusuf Hemedani
- B) Raz'i
- C) Hacı Bektaş Veli
- D) Zemahşeri
- E) Şems-i Tebrizi

19. Orhan Bey zamanında kurulan yeniçeri ordusunun ve yeniçeriliğin piri, manevi üstadı aşağıdakilerden hangisidir?

- A) Lokman-ı Perende
- B) Eş'ari
- C) Hacı Bektaş Veli
- D) Ahi Evran
- E) İmam Şafii

20. Aşağıdakilerden hangisi Ebu Mansur Maturidi'nin eserlerinden biridir?

- A) Fıkıh-ı Ekber
- B) Muvatta
- C) Kitabu'r-Risale
- D) Te'vil-el Kur'an
- E) Kitabü'l-Ümm

DİN KÜLTÜRÜ VE AHLAK BİLGİSİ 5

B

2012 3D 0105-B

1. Hz. Ali ve Hz. Aişe arasında çıkan, daha sonraları Haricilik ve Şia gibi siyasi ve itikadi mezheplerin kurumsallaşmasına neden olan olay aşağıdakilerden hangisidir?

A) Mutezile
B) Takiyye
C) Cemel Vakası
D) Nübüvvet
E) Tevhid

2. Hz. Muhammed'in torunu olan Hz. Hasan'ın soyundan gelenlere ne ad verilir?

A) Semih
B) Şerif
C) Habibullah
D) Furkan
E) Seyyid

3. Aşağıdakilerden hangisi İslâm'ın temel inanç esaslarından biridir?

A) Kelime-i Şahadet getirmek
B) Zekât vermek
C) Hacca gitmek
D) Oruç tutmak
E) Kaza ve kadere inanmak

4. Hz. Muhammed'in hasta olan insanları bizzat evlerinde ziyaret edip, geçmiş olsun deyip onun için dua etmesi hangi özelliği ile ilgilidir?

A) Merhametli olması
B) Dürüst olması
C) Otoriter olması
D) Adaletli olması
E) Kolaylaştırıcı olması

5. Kur'an-ı Kerim kaç yılında Hz. Muhammed'e vahiy yoluyla gönderilmiştir?

A) 604
B) 610
C) 622
D) 624
E) 630

6. Ehli sünnet inancının sistemini oluşturan akım aşağıdakilerden hangisidir?

A) Mutezile
B) Eşarilik
C) Maturidilik
D) Haricilik
E) Şiiilik

7. Peygamberimiz döneminde görülen, müşriklerin, sıkıntı ve işkenceleri sonucu bütün mal varlıklarını hatta çoluk ve çocuklarını Mekke'de bırakıp, Medine'ye göç eden muhacirlere ensarların evlerini açıp, her şeylerini paylaşmaları hangi kavramla açıklanır?

A) Dürüstlük
B) Alçak gönüllülük
C) Şükür
D) Diğerkamlik
E) Fedakarlık

8. Bir rubaisinde " Ben Hz. Muhammed'in ayağının tozuyum!" diyen Allah dostu aşağıdakilerden hangisidir?

A) Dede Korkut
B) Ahmet Yesevi
C) Mevlana
D) Yunus Emre
E) Hacı Bektaş Veli

9. Allah'ın, başlangıçtan sonsuza kadar olmuş ve olacak olan tüm olayların yerini ve zamanını bilip takdir etmesine ne ad verilir?

A) Kader
B) Kaza
C) Ecel
D) Tevekkül
E) Haşir

10. Aşağıdakilerin hangisinde "hayır"ın tanımı verilmiştir?

A) Gerçekleştirilmek istenen herhangi bir iş için gerekli olan hazırlıklar yapıldıktan sonra Allah'a güvenip sonucun hayırlı olmasını Allah'tan istemedir.
B) Allah'ın önceden takdir ettiği olayların, zamanı geldiğinde ortaya çıkmasıdır.
C) Kötü, fena ve zararlı anlamlarına gelen, Allah'ın sevmediği, hoşlanmadığı ve yapılmasını istemediği davranışlardır.
D) İnsan yaşamının ve diğer canlılar için önceden tespit edilmiş sürenin sonuçlanmasıdır.
E) İyi, güzel ve faydalı anlamlarına gelen, Allah'ın emrettiği, sevdiği ve yapılmasından hoşnut olduğu davranışlardır.

B

2012 3D 0105-B

11. I. Cinsiyet
II. Akıl sahibi olmak
III. İnançlar
IV. Aile

Yukarıdakilerden hangisi ya da hangileri insanın kaderini etkileyen değişmez unsurlardandır?

- A) Yalnız I
B) I ve II
C) II ve IV
D) I, II ve IV
E) III ve IV

12. **Aşağıdakilerden hangisi Hz. Muhammed'in özelliklerinden biri değildir?**

- A) Sabırsız olması
B) Güvenilir olması
C) Merhametli olması
D) Adaletli olması
E) Hoşgörülü olması

13. **Aşağıdakilerden hangisi Kur'an-ı Kerim'de tarif edilen örnek insanın özelliklerinden biri değildir?**

- A) Anne babasına iyi davranan
B) Hoşgörülü ve bağışlayıcı
C) Güvenilir
D) Emanete hıyanet etmeyen
E) Kibirli ve gururlu

14. Yönetim yetkisinin Hz. Ali'nin soyuna ait olduğunu ve bu durumun Kıyamet'e kadar devam etmesi gerektiğine inanırlar. Hz. Ali, Hz. Muhammed'den sonra insanların en üstünüdür. En önemli temsilcisi İmamiyye'ye göre, vahiy ve atanmayla imamlığı öngörülen 12 kişi vardır. Açık veya gizli bir tehlike karşısında inancını gizleme (takiyye) esastır.

Yukarıda anlatılan mezhep aşağıdakilerden hangisidir?

- A) Haricilik
B) Maturidilik
C) Şiiilik
D) Mutezile
E) Eşarilik

15. **Aşırı mülk edinme ve paylaşma konularında bireylerin istek ve arzularını düzenleme gibi olumlu etkileri en çok sağlayan ibadet türü aşağıdakilerden hangisidir?**

- A) Çalışmak
B) Oruç tutmak
C) Hacca gitmek
D) Zekât vermek
E) Namaz kılmak

16. **Aşağıdakilerden hangisi "elhamdülillah" kelimesinin karşılığıdır?**

- A) Yüce Allah'ın her türlü eksiklikten uzak olduğunu belirtmek
B) Allah'ın verdiği sonsuz nimetlere şükretmek
C) Her hayırlı işe Allah'ın adıyla başlamak
D) Allah'ın büyüklüğünü ve yüce olduğunu zikretmek
E) Allah'tan başka ilah olmadığını belirtmek

17. **Kişinin işlediği günah nedeniyle Allah'tan özür dilemesi ve bir daha suç işlememeye söz vermesine ne ad verilir?**

- A) Sabır
B) Kudret
C) Diğerkamlık
D) Tövbe
E) Sorumluluk

18. **"...Gerçekten biz her şeyi belli bir ölçü ve denge içerisinde yarattık..." ayeti'nde kader kavramı ne ile ilişkilendirilmiştir?**

- A) Ahiret hayatına iman
B) Akıl sahibi olmak
C) Sosyal yaşam
D) Ekonomik ilişkiler
E) Evrendeki düzen ve uyum

19. **Aşağıdakilerden hangisi ibadetin toplumsal faydalarından biridir?**

- A) İnsanların birbirlerine kaynaşmasına katkıda bulunur.
B) İnsanın yaratan ile ilişkisini güçlendirir.
C) İnsanın iç huzurunu güçlendirir.
D) İnsanda güven duygusunu geliştirir.
E) İnsanda sorumluluk bilinci geliştirir.

20. **Hanefilik mezhebi ile ilgili aşağıdaki ifadelerden hangisi yanlıştır?**

- A) Dini konuların çözümünde başvurulacak ana kaynak Kur'an-ı Kerim ve sünnettir.
B) Malik b. Enes'in görüşlerinin etrafında oluşan bir mezheptir.
C) Müslüman bilginlerin ortaya attığı fikir ve düşünceler icmadır.
D) Osmanlı Devleti'nin resmi mezhebidir.
E) Akıl ve mantık kurallarını bilimsel metodlar sonucunda kullanmıştır.

TARİH 3

B

2012 3D 0105-B

1. Kayı kelimesinin anlamı aşağıdakilerden hangisinde birlikte verilmiştir?

- A) Güç ve kudret
- B) Hız ve genişlik
- C) Ağaç ve kudret
- D) Güç ve hız
- E) Ağaç ve genişlik

2. Aşağıdakilerden hangisi yaptığı seyahat ile dünyanın yuvarlak olduğunu kanıtlamıştır?

- A) Macellan
- B) Kristof Kolomb
- C) Newton
- D) Cortes
- E) Vespucci

3. XIV. yüzyıl başlarında Marmara denizi kıyılarına ve Trakya'ya hakim olan, taht kavgaları ve Haçlı seferleri nedeniyle Balkanlar ve Anadolu'daki kuvveti zayıflamış siyasal güç aşağıdakilerden hangisidir?

- A) Türkiye Selçuklu Devleti
- B) Moskova Knezliği
- C) Bizans İmparatorluğu
- D) Trabzon İmparatorluğu
- E) Venedik ve Ceneviz Kolonileri

4. Aşağıdakilerden hangisi İstanbul'un fethinin sonuçlarından biri değildir?

- A) Türk ve İslam dünyasında Fatih'in ününün artması
- B) Bizans İmparatorluğu'nun yıkılması
- C) Ortaçağ'ın sona ermesi, yeni çağın başlaması
- D) II. Murat'ın Fatih unvanını alması
- E) Avrupa'daki Türk ilerleyişinin kolaylaşması

5. Amerika Birleşik Devletleri'nin kurulmasına ilişkin aşağıdaki ifadelerden hangisi yanlıştır?

- A) Portekizler Meksika ve Güney Amerika'da sömürge kurdular.
- B) İngilizler kıyılardan içeri doğru ilerleyerek yeni topraklar kazandılar.
- C) 1775'de Philadelphia'da toplanan kongre, 13 koloninin bağımsızlığını ilan etti.
- D) Philadelphia'da toplanan kongre İnsan Hakları Bildirisi'ni kabul ve ilan etti.
- E) George Washington baş komutanlığa getirildi.

6. Aşağıdakilerden hangisi Reformun sonuçlarından biri değildir?

- A) Protestanlığı kabul eden ülkelerde kilisenin mallarının elinden alınması
- B) Din ve devlet işlerinin birleştirilmesi
- C) Katolik kilisenin kendini düzeltmeye çalışması
- D) Okulların, kilisenin elinden alınarak halka verilmesi
- E) Papalara ve din adamlarına duyulan saygının azalması

7. I. Mutlak Monarşi
II. Meşruti Monarşi
III. Parlamentolu Monarşi

Egemenlik yetkilerinin bir kişi tarafından kullanıldığı devlet şekilleri yukarıdakilerden hangileridir?

- A) Yalnız I
- B) Yalnız III
- C) I ve II
- D) II ve III
- E) I, II ve III

B

2012 3D 0105-B

8. I. Fransa ihtilal öncesi sınırlarına çekildi.
 II. Almanya otuzdan fazla devletten oluşan konfederasyon haline geldi.
 III. İtalya'da yedi hükümet kuruldu.
 IV. Belçika ve Norveç birleştirildi.

Yukarıdakilerden hangileri Viyana Kongresi'nde alınan en önemli kararlar arasındadır?

- A) I ve II
 B) II ve III
 C) I, II ve III
 D) II, III ve IV
 E) I, II, III ve IV

9. 1863 yılında Türkiye'de ilk kez mal tanıtımı amacıyla sergi aşağıdaki illerden hangisinde açılmıştır?

- A) Bursa
 B) İstanbul
 C) İzmir
 D) Edirne
 E) Bilecik

10. Aşağıdakilerden hangisi Osmanlı Devleti'nin XVII. yüzyılda en geniş sınırlarına ulaşmasına rağmen iç isyanların ortaya çıkmasındaki başlıca nedenlerden biri değildir?

- A) Rüşvet ve kayırmancılığın yaygınlaşması
 B) Uzun süren savaşlar
 C) Ehliyetli kişilerin işbaşına getirilmesi
 D) Kapıkulu ve tımar sisteminin kaldırılması
 E) Devlet yönetiminde görülen bozukluklar

11. XVII. yüzyılda Osmanlı Devleti ile Lehistan arasındaki ilk savaşın çıkma nedeni aşağıdakilerden hangisidir?

- A) Girit Adası'nın kuşatılması
 B) Bucaş Anlaşması'na uyulmaması
 C) Hotin Kalesi'nin kuşatılması
 D) Lehistan'ın Boğdan işlerine karışması
 E) Lehlerin Kazakların topraklarına saldırması

12. Anadolu'nun güneyindeki bazı toprakları elinde tutan ve XIV. yüzyıl başlarında Yakın Doğu'da en güçlü devlet aşağıdakilerden hangisidir?

- A) Hersek Prenslığı
 B) Amavut krallığı
 C) Memlûkler
 D) Altın Orda Devleti
 E) Boğdan Voyvodalığı

13. Osmanlı ordusu tarafından 1363 yılında Edirne'nin fethi kimin komutasında ve hangi savaş sonucunda gerçekleştirilmiştir?

- A) Lala Şahin Paşa, Sazlıdere Savaşı
 B) I. Murat, Sırp Sındığı Savaşı
 C) Orhan Bey, Çimen Savaşı
 D) Hacı İlbey, I. Kosova Savaşı
 E) Yıldırım Bayezit, Niğbolu Savaşı

14. I. Sırbistan, Karadağ ve Romanya'ya bağımsızlık verildi.
 II. Bulgaristan üç bölgeye ayrıldı.
 III. Kars, Ardahan ve Batum Rusya'ya bırakıldı.
 IV. Bosna ve Hersek'in yönetimi İngiltere'ye verildi.

13 Temmuz 1878'de imzalanan Berlin Antlaşması'na göre yukarıdakilerden hangileri kabul edilmiştir?

- A) I ve I
 B) II ve III
 C) I, II ve III
 D) II, III ve IV
 E) I, II, III ve IV

15. İtalya'da Rönesans ilk defa hangi alanda başlamıştır?

- A) Müzik
 B) Edebiyat
 C) Heykel
 D) Tiyatro
 E) Resim

2012 3D 0105-B

16. Orta Çağ Avrupa'sında kilisenin dini ve dünyevi haklara sahip olduğu, düşünce alanında kilisenin koyduğu kuralların geçerli olduğu ve bunlara aykırı düşünmenin mümkün olmadığı düşünce tarzı aşağıdakilerden hangisidir?

- A) Hümanizm
- B) Komünizm
- C) Kapitalizm
- D) Sosyalizm
- E) Dogmatizm

17. 1911 yılında Osmanlı Devleti Trablusgarp Savaşı'nı aşağıdakilerden hangisiyle yapmıştır?

- A) İngiltere
- B) İtalya
- C) Fransa
- D) Rusya
- E) Avusturya

18. Osmanlı Devleti ilk kez aşağıdaki anlaşmalardan hangisiyle toprak kaybına uğramıştır?

- A) Bucaş Antlaşması
- B) Hotin Antlaşması
- C) Kasr-ı Şirin Antlaşması
- D) Pasarofça Antlaşması
- E) Karlofça Antlaşması

19. I. Kopernik Dünya'nın güneş çevresinde döndüğünü açıkladı.
II. Galileo teleskopu buldu.
III. Newton yerçekimi kanununu buldu.

Yukarıdakilerden hangileri XVI. yüzyılda başlayan tabii bilimlerdeki gelişmelerdir?

- A) Yalnız I
- B) Yalnız III
- C) I ve II
- D) II ve III
- E) I, II ve III

20. I. Avrupa'da güçler dengesinin bozulması
II. Kutsal Roma-Germen İmparatorluğu'nun çözülüp parçalanması
III. İspanya'nın güçlenmesi
IV. İsviçre ve Hollanda'nın bağımsızlıklarını kazanması

Yukarıdakilerden hangileri Vestfalya Anlaşması'nın sonuçlarıdır?

- A) I ve II
- B) II ve III
- C) I, II ve III
- D) I, II ve IV
- E) I, II, III ve IV

TÜRKİYE CUMHURİYETİ İNKILÂP TARİHİ VE ATATÜRKÇÜLÜK 1

B

2012 3D 0105-B

1. İlk Osmanlı anayasası olan Kanunuesasi'ye göre yasama ve yürütme güçleri hangi kişi ya da kuruma bağlıydı?

- A) Yasama, Nazırlar Heyeti'ne, yürütme padişaha
- B) Yasama Meclisi Ayan'a, yürütme Mebusan Meclisi'ne
- C) Yürütme Nazırlar Heyeti'ne yasama Mebusan Meclisi'ne
- D) Yasama ve yürütme padişaha
- E) Yürütme Mebusan Meclisi'ne, yasama padişaha

2. Aşağıdakilerden hangisi Misakımilli kararlarından biri değildir?

- A) Batı Trakya'nın durumunun tespitinde halkın oyuna tekrar başvurulacaktır.
- B) Hatay'da bir halk oylamasına gidilebilir.
- C) Arapların oturduğu ve İtilaf Devletleri'nin işgal ettiği yerlerin geleceğini orada oturan halkın oyları belirleyecektir.
- D) Kars, Ardahan ve Batum'da gerekirse halkın oyuna başvurulmalıdır.
- E) Azınlıkların hakları, komşu ülkelerdeki Müslümanlara verilen haklar kadar güvenlik altına alınacaktır.

3. I. Dünya Savaşı başladığında, Osmanlı Devleti öncelikle aşağıdaki kararlardan hangisini almıştır?

- A) Savaşa hiç katılmayacağını ilân etti.
- B) İttifak grubunun içinde yer aldı.
- C) İtilaf grubunun içinde yer aldı.
- D) Tarafsızlığını ilân etti.
- E) Askeri yardım yapılırsa savaşa katılacağını ilan etti.

4. Tanzimat Dönemi'nin sonlarına doğru ortaya çıkan Genç Osmanlılar'ın taraftarı olduğu, dil, din, ırk gözetmeksizin Osmanlı Devleti'nde yaşayan herkesin eşitliğini savunan fikir akımı aşağıdakilerden hangisidir?

- A) Sosyalizm
- B) Batıcılık
- C) Osmanlıcılık
- D) Türkçülük
- E) İslamcılık

5. I. Çanakkale
II. Kanal
III. Irak
IV. Kafkasya

Birinci Dünya Savaşı sırasında Osmanlı Devleti yukarıda savaştığı cephelerden hangilerinde başarılı olmuştur?

- A) Yalnız I
- B) Yalnız II
- C) Yalnız III
- D) I ve IV
- E) III ve IV

6. Trablusgarp Savaşı aşağıdaki devletlerden hangileri arasında olmuştur?

- A) Osmanlı - Fransa
- B) Osmanlı - Rusya
- C) Osmanlı - Almanya
- D) Osmanlı - İtalya
- E) Osmanlı - İngiltere

B

2012 3D 0105-B

7. I. Mustafa Kemal'in meclis başkanı seçilmesi
II. Mecliste bir Müdafaa-i Hukuk Grubu'nun oluşturulması
III. Misakımillî'nin olağanüstü şartlara rağmen kabul ve ilan edilmesi

Mustafa Kemal'in kendisine yakın milletvekillerinden yukarıdaki isteklerinin hangileri son Osmanlı Mebusan Meclisi'nde kabul edilmiştir?

- A) Yalnız I
B) Yalnız III
C) I ve II
D) II ve III
E) I, II ve III

8. Aşağıdakilerden hangisi Temsil Heyeti ile birlikte Mustafa Kemal'in Sivas'tan Ankara'ya gelmesinin nedenlerinden biri değildir?

- A) Ankara'nın merkezi ve güvenli olması
B) Ankara'nın Yunanistan ile Batı Anadolu'da yapılacak savaş alanlarına yakın olması
C) Ankara'nın İstanbul ve değişik bölgelere demiryolu ulaşımıyla bağlantısının olması
D) Ankara'nın haberleşme yönünden uygun olması
E) Meclisin Ankara'da olması

9. Aşağıdakilerden hangisi Amerika Birleşik Devletleri Başkanı Wilson'un kendi adıyla yayınladığı ilkeler arasında yer almaz?

- A) Devletler arasında gizli antlaşmaların yapılabilmesi
B) Yenilen devletlerin savaş tazminatı ödememesi
C) Osmanlı Devleti'nde Türk bölgelerine kesin egemenlik tanınması
D) Osmanlı Devleti'ndeki azınlıklara kendilerini yönetme hakkının tanınması
E) Yenen devletlerin yenilenlerden toprak almaması

10. Manda yönetimi aşağıdakilerden hangisinde kesinlikle reddedilmiştir?

- A) Mudanya Görüşmeleri
B) Sivas Kongresi
C) Amasya Genelgesi
D) Erzurum Kongresi
E) Havza Genelgesi

11. Aşağıdakilerden hangisi II.Abdülhamit'in tahttan indirilmesine yol açmıştır?

- A) Trablusgarb Savaşı
B) II.Meşrutiyet'in ilan edilmesi
C) 31 Mart Vak'ası
D) Bulgaristan'ın bağımsızlığına kavuşması
E) Avusturya-Macaristan'ın Bosna Hersek'i ele geçirmesi

12. I. Arapların oturduğu ve İtilaf Devletleri'nin işgal ettiği yerlerin geleceği, o yerler halkının oyları ile belirlenecektir.
II. Batı Trakya'nın durumunun tespitinde halkın oyuna tekrar başvurulmayacaktır.
III. Türklerin oturduğu yerler, hiçbir sebeple ayrılık kabul etmez bir bütündür.
IV. Halkın oyu ile anavatana katılmış olan Kars, Ardahan, Batum için gerekirse halkın oyuna başvurulmalıdır.

Misakımillî kararları ile ilgili yukarıdaki ifadelerden hangileri yanlıştır?

- A) Yalnız II
B) Yalnız IV
C) II ve III
D) III ve IV
E) I, II ve IV

13. Yunanistan'ın İzmir'i işgal etmesi kararı aşağıdakilerden hangisinde alınmıştır?

- A) Saint Jean de Maurienne (Sen Jon dö Moren) Antlaşması
B) Mondros Ateşkes Antlaşması
C) Wilson Prensipleri
D) Londra Antlaşması
E) Paris Barış Konferansı

2012 3D 0105-B

14. İlk Türkiye Büyük Millet Meclisi ile ilgili aşağıdaki ifadelerden hangisi yanlıştır?

- A) Yeni Türk Devleti'nin ilk kurumlarını kurması ve temel yasalarını kabul etmesi nedeniyle kurucu meclis olarak adlandırılmıştır.
- B) Güçler ayrılığı ilkesi benimsenmiştir.
- C) Milli iradeye dayanan ilk meclistir.
- D) Millet iradesi ile seçilen milletvekillerinden oluşmaktadır.
- E) Öncelikle vatanın kurtuluşunu ve milletin bağımsızlığını esas almıştır.

15. Aşağıdakilerden hangisi Balkan Savaşları'nın sonuçlarından biri değildir?

- A) Savaşın ağır sonuçlarını bahane göstererek II. Abdülhamit'in meşrutiyet yönetimine son vermesi
- B) Osmanlı Devleti ile Almanya arasında yakınlaşma başlaması
- C) Amavutluk'un Osmanlı Devleti'nden ayrılarak bağımsızlığını ilan etmesi
- D) Osmanlı Devleti'nin Batı Trakya'yı, İmroz (Gökçeada) ve Bozcaada dışında Ege Adalarını kaybetmesi
- E) Tüm Makedonya'nın kaybedilmesi

- 16. I. Sulh ve Selamet-i Osmaniye Cemiyeti
- II. Hüriyet ve İtilaf Fırkası
- III. Redd-i İlhak
- IV. Kilikyalılar Cemiyeti
- V. Wilson Prensipleri Cemiyeti

Yukarıdakilerden hangileri Kurtuluş Savaşı'nın örgütlenmesinde, savaşın maddi ve manevi yönden desteklenmesinde öncülük etmiş milli amaca yönelik direniş cemiyetlerindendir?

- A) Yalnız I
- B) Yalnız IV
- C) II ve III
- D) III ve IV
- E) IV ve V

17. Aşağıdaki ayaklanmalardan hangisi, doğrudan İstanbul Hükümeti tarafından Büyük Millet Meclisi'ne karşı çıkarılmıştır?

- A) Afyon Ayaklanması
- B) Çerkez Ethem İsyanı
- C) Demirci Mehmet Efe Ayaklanması
- D) Milli Aşiret Ayaklanması
- E) Aznavur Ayaklanması

18. Birinci Dünya Savaşı sonunda, savaşı kaybeden Avusturya ile İtilaf Devletleri arasında imzalanan antlaşma aşağıdakilerden hangisidir?

- A) Trianon (Triyanon)
- B) Versailles (Versay)
- C) Saint-Germain (Sen Jerman)
- D) Brest-Litowsk
- E) Neuilly (Nöyyi)

19. Aşağıdakilerden hangisi I. İnönü Muharebesi'nin nedenlerinden biri değildir?

- A) Yunanlıların İngilizleri memnun etmek ve İtilaf Devletleri'nin desteğini almak istemesi
- B) Yunan birliklerinin Eskişehir'i işgal etmek ve demiryolunun geçtiği yerleri kontrol altına almak istemesi
- C) Sevr Antlaşması'nın TBMM'ye kabul ettirilmek istenmesi
- D) Yunan ordusunun Çerkez Ethem ayaklanmasından yararlanmak istemesi
- E) TBMM'nin kurduğu düzenli ordunun kazanacağı başarılarla dışarıda itibarını artırmak istemesi

20. I.Dünya Savaşı'nda Kafkasya cephesi hangi antlaşma ile kapandı?

- A) Uşi Antlaşması'yla
- B) Atina Antlaşması'yla
- C) Brest-Litowsk Antlaşması'yla
- D) Londra Antlaşması'yla
- E) Mondros Ateşkes Antlaşması'yla

COĞRAFYA 5

B

2012 3D 0105-B

1. Türkiye' nin arazilerinin büyük bir kısmının dağlık ve engebeli olması aşağıdaki ekonomik faaliyetlerden hangisini olumsuz yönde etkilemektedir?

- A) Sanayi
- B) Eğitim
- C) Ulaşım
- D) Turizm
- E) Tarım

2. Aşağıdaki şehirlerden hangisi bir liman şehri değildir?

- A) Marsilya
- B) Amsterdam
- C) İskenderiye
- D) İstanbul
- E) Varşova

3. Tropikal yağmur ormanları aşağıdaki bölgelerin hangisinde daha geniş yer kaplar?

- A) Dağların zirveleri
- B) Tundra bölgeleri
- C) Ekvatorial bölge
- D) Dağların etekleri
- E) Çöller

4. Aşağıdakilerden hangisi şehirlerde en az yürütülen faaliyet alanlarından biridir?

- A) Tarım
- B) Ticaret
- C) Turizm
- D) Sanayi
- E) Kültürel

5. Akım ve yatak özellikleri dikkate alındığında aşağıdaki akarsulardan hangisinin hidroelektrik potansiyeli daha yüksektir?

- A) Küçük Menderes
- B) Gediz Nehri
- C) Meriç Nehri
- D) Fırat Nehri
- E) Asi Nehri

6. Aşağıdakilerden hangisi çevreyi kirletmeyen temiz ve tükenmez bir enerji kaynağıdır?

- A) Taş kömürü
- B) Linyit
- C) Nükleer enerji
- D) Doğal gaz
- E) Rüzgar

7. Nüfus artış hızının artması aşağıdaki ülkelerden hangisinde bir sorun oluşturmaz?

- A) Fransa
- B) Pakistan
- C) Çin
- D) Mısır
- E) Hindistan

8. Aşağıdaki bölge tiplerinden hangisi Türkiye'de bulunmaz?

- A) Ormanlık bölge
- B) Ovalık bölge
- C) Buzulların şekillendirdiği bölge
- D) Sanayi bölgesi
- E) Maki bitki türü bölgesi

9. Aşağıdakilerden hangisi canlıların yeryüzüne dağılışını etkileyen coğrafi faktörlerden olan paleocoğrafya içinde yer alır?

- A) Kıtaların kayması
- B) İnsan
- C) İklim
- D) Yer şekilleri
- E) Toprak

10. Canlıların yaşaması için gerekli olan oksijenin atmosferde bulunma oranı yüzde kaçtır?

- A) 5
- B) 21
- C) 50
- D) 78
- E) 80

B

2012 3D 0105-B

11. Nüfus artış hızının düşürülmesi için aşağıdaki önlemlerden hangisi daha etkili ve kalıcıdır?

- A) Az çocuklu ailelere vergi indirimi uygulanması
- B) Aile planlaması ve doğum kontrolünün yaygınlaştırılması
- C) İç göçlerin teşvik edilmesi
- D) Çok sayıda hastane ve okul yapılması
- E) Küçük yaşta evliliklerin teşvik edilmesi

12. Aşağıdakilerden hangisi Asya' da, kömür yataklarının bulunduğu yerlerden biri değildir?

- A) Sibirya
- B) Hindistan
- C) Fransa
- D) Çin
- E) Rusya

13. Akım ve yatak özellikleri dikkate alındığında aşağıdaki akarsulardan hangisinin hidroelektrik potansiyeli daha yüksektir?

- A) Asi Nehri
- B) Meriç Nehri
- C) Küçük Menderes
- D) Çoruh Nehri
- E) Gediz

14. Aşağıdakilerden hangisi 1923-1932 döneminde tarım ve sanayi alanında yaşanmış önemli gelişmelerden biri değildir?

- A) Tarımda makineleşmenin sağlanması için teşvikler verilmesi
- B) Ziraat Bankası vasıtasıyla çiftçilere kredi imkanı sağlaması
- C) Aşar vergisinin kaldırılması
- D) Teşviki Sanayi Kanunu ve Gümrük Kanunu çıkarılması
- E) Sümerbank'ın kurulması

15. Aşağıdaki doğal afetlerden hangisinin oluşum kökeni diğerlerinden farklıdır?

- A) Çığ
- B) Taşkın
- C) Dolu
- D) Deprem
- E) Sel

16. Havadaki su buharının sıvı hale geçmesine ne ad verilir?

- A) Yoğuşma
- B) Terleme
- C) Buharlaşma
- D) Yağış
- E) Yüzey akışı

17. Aşağıdakilerden hangisi tükenmeyen doğal kaynaklardan değildir?

- A) Güneş
- B) Kömür
- C) Su
- D) Dalga
- E) Rüzgar

18. Aşağıdakilerden hangisi tüketimi etkileyen beşeri faktörlerden biridir?

- A) İnsan kaynakları
- B) Sanayii
- C) Tarımsal faaliyetler
- D) Modern pazarlama teknikleri
- E) Tanıtım ve kitle iletişim araçları

19. Ekonomik faaliyetlerin temelinde yatan asıl unsur aşağıdakilerden hangisidir?

- A) Coğrafik konum
- B) Doğal afetler
- C) İnsan ihtiyaçları
- D) Nüfus artışı
- E) İklim çeşitliliği

20. Ülkemizde aşağıdaki şehirlerin hangisinde petrol rafinerisi yoktur?

- A) Mersin
- B) Rize
- C) İzmir
- D) Batman
- E) İzmit

MATEMATİK 1

B

2012 3D 0105-B

1. D doğru bir önerme, Y yanlış bir önerme ve p, q herhangi iki önermedir.

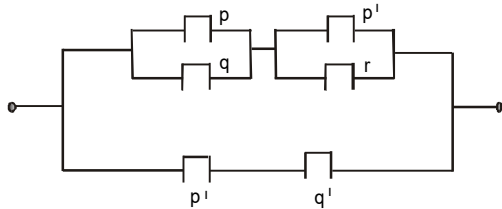
Buna göre, $[(p \Rightarrow q) \wedge Y] \Leftrightarrow D$ bileşik önermesi aşağıdakilerden hangisine denktir?

- A) $p \Rightarrow q$
- B) $p \vee q$
- C) $p \wedge q$
- D) Y
- E) D

2. Verilen 6 önerme için kaç tane doğruluk değeri vardır?

- A) 12
- B) 16
- C) 24
- D) 32
- E) 64

3.



Şekildeki elektrik devresine karşılık gelen bileşik önerme aşağıdakilerden hangisidir?

- A) $[(p \vee q) \vee (p' \wedge r)] \vee (p' \wedge q')$
- B) $[(p \vee q) \wedge (p' \vee r)] \vee (p' \wedge q')$
- C) $[(p \vee q) \vee (p' \vee r)] \wedge (p' \vee q')$
- D) $[(p \wedge q) \wedge (p' \wedge r)] \vee (p' \wedge q')$
- E) $[(p \wedge q) \vee (p' \vee r)] \wedge (p' \wedge q')$

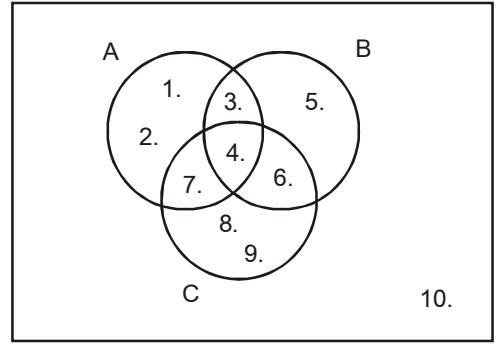
4. Aşağıdakilerden hangisi bir önerme değildir?

- A) Güneş bir gezegendir.
- B) İki tek sayının toplamı bir çift sayıdır.
- C) Bir yıl 365 gündür.
- D) Suyun donma sıcaklığı her yerde aynıdır.
- E) Bugün sinemaya gidelim.

5. $(\exists x, x-2 \leq 3) \wedge (\forall x, 2x-3 = 7)$ önermesinin **değili** aşağıdakilerden hangisidir?

- A) $(\forall x, x-2 > 3) \vee (\exists x, 2x-3 \neq 7)$
- B) $(\forall x, x-2 > 3) \wedge (\exists x, 2x-3 = 7)$
- C) $(\exists x, x-2 < 3) \wedge (\exists x, 2x-3 = 7)$
- D) $(\exists x, x-2 \leq 3) \vee (\forall x, 2x-3 = 7)$
- E) $(\exists x, x-2 \geq 3) \vee (\forall x, 2x-3 \neq 7)$

6.



Yukarıda Venn şeması ile verilen E evrensel kümesine göre, $A' \setminus (B \cap C)$ kümesi aşağıdakilerden hangisidir?

- A) {4, 6}
- B) {3, 4, 6, 10}
- C) {5, 8, 9, 10}
- D) {4, 5, 6, 7, 9}
- E) {4, 5, 6, 8, 10}

7. $n(A) = 15$, $n(B) = 11$ ve $n(A \cap B) = 6$ ise $n(A \cup B)$ kaçtır?

- A) 14
- B) 20
- C) 22
- D) 24
- E) 26

B

2012 3D 0105-B

8. Çift rakamların oluşturduğu kümenin liste yöntemi ile gösterimi aşağıdakilerden hangisidir?

A) {5, 6, 7}
 B) {8, 10, 12}
 C) {2, 3, 4, 5}
 D) {0, 2, 4, 6, 8}
 E) {1, 2, 4, 5, 6, 8}

9. $A = \{1, 2\}$ kümesi veriliyor. A dan B ye tanımlanabilen bağıntıların sayısı 256 olduğuna göre B kaç elemanlıdır?

A) 2
 B) 3
 C) 4
 D) 5
 E) 6

10. $E = \{7, 8, 9\}$ kümesinin kaç tane özalt kümesi vardır?

A) 5
 B) 7
 C) 15
 D) 24
 E) 31

11. $A = \{1, 2, \{3\}, \{4\}, \{5, 6\}\}$ kümesi veriliyor. Aşağıdakilerden hangisi, A' nın bir alt kümesi değildir?

A) {1}
 B) {2}
 C) {3}
 D) {1, 2}
 E) {1, 2, {5, 6}}

12. $A = \{a, b, c, d\}$ kümesinin alt kümelerinin kaç tanesinde c elemanı bulunmaz?

A) 2
 B) 4
 C) 6
 D) 8
 E) 10

13. $\left[(0 \vee 1)' \wedge (1 \wedge 0)' \right] \vee a \equiv 0$ önermesi için a yerine aşağıdaki bileşik önermelerden hangisi gelemez?

A) $(0 \vee 1)'$
 B) $(0 \wedge 0)'$
 C) $1 \Rightarrow 0$
 D) $0 \Leftrightarrow 1$
 E) $1 \Leftrightarrow 0$

14. R de tanımlı $\beta = \{(x, y) \mid x^2 - x = y^2 - y\}$ bağıntısı bir denklik bağıntısı olduğuna göre, 1 in denklik sınıfı aşağıdakilerden hangisidir?

A) {0, 1}
 B) {-1, 1}
 C) {-1, 0, 1}
 D) {0, 1, 2}
 E) {-2, -1, 0, 1, 2}

15. Bir sınıfta İngilizce bilen 14 kişi, Almanca bilen 9 kişi, Fransızca bilen 3 kişi, İngilizce ve Almanca bilen 6 kişi vardır.

Fransızca bilen başka bir dil bilmediğine göre, bu sınıfta en az kaç kişi vardır?

A) 14
 B) 17
 C) 20
 D) 26
 E) 30

2012 3D 0105-B

16. $f : \mathbb{R} \setminus \{3\} \rightarrow \mathbb{R} \setminus \{5\}$, $f(x) = \frac{5x+7}{x-3}$ fonksiyonu veriliyor.

Buna göre, $f^{-1}(x)$ aşağıdakilerden hangisidir?

- A) $\frac{3x+7}{x-5}$
- B) $\frac{3x}{5-x}$
- C) $\frac{x-3}{2x+7}$
- D) $\frac{5x+4}{x-7}$
- E) $\frac{5x+7}{x+3}$

17. \mathbb{R} de $x \Delta y = 3xy - 3x - 3y + 4$ şeklinde tanımlanan Δ işlemine göre birim eleman kaçtır?

- A) $-\frac{1}{2}$
- B) 1
- C) $\frac{2}{3}$
- D) $\frac{3}{4}$
- E) $\frac{4}{3}$

18. $(3x - 2, y + x) = (4, 6)$ olduğuna göre (x, y) ikilisi aşağıdakilerden hangisidir?

- A) (2, 4)
- B) (3, 4)
- C) (4, 2)
- D) (4, 5)
- E) (6, 4)

19. $A = \{-2, 0, 2\}$, $f: A \rightarrow B$ tanımlı örten bir fonksiyondur.

$f(x) = x^2 - 2$ kuralı ile verildiğine göre, B kümesi aşağıdakilerden hangisidir?

- A) $\{-2\}$
- B) $\{0\}$
- C) $\{-2, 2\}$
- D) $\{-2, 0, 2\}$
- E) $\{-1, 0, 2\}$

20. $K = \{a, b\}$, $L = \{5\}$ ve $M = \{7\}$ kümeleri veriliyor.

Buna göre, $K \times L \times M$ kümesi aşağıdakilerden hangisidir?

- A) $\{(5, 7, a)\}$
- B) $\{(a, 5, 7)\}$
- C) $\{(a, b, 5), (a, b, 7)\}$
- D) $\{(a, 5, 7), (b, 5, 7)\}$
- E) $\{(a, 5), (a, 7), (b, 5), (b, 7)\}$

TURİZM 2

B

2012 3D 0105-B

1. Türkiye'de bilinçsizce avlanma sonucunda aşağıdaki hayvanlardan hangisinin soyu tükenmiştir?

- A) Kelaynak kuşları
- B) Flamingo
- C) Telli turnalar
- D) Anadolu Parsı
- E) Vaşak

2. Marmara Bölgesi Balıkesir'de aşağıdakilerden hangisi bulunmaktadır?

- A) Kayak
- B) Su ürünleri
- C) Su sporları
- D) Doğal park
- E) Kuş cenneti

3. Av turizmi ile ilgili olarak aşağıdaki ifadelerden hangisi yanlıştır?

- A) Türkiye coğrafi yapısı ve bitki örtüsü bakımından av turizminin gelişmesine elverişli değildir.
- B) Bilinçli yapılmalıdır.
- C) Belli bir eğitime dayanmalıdır.
- D) Doğaya zarar vermeden yapılmalıdır.
- E) Sadece olgunluğa erişmiş hayvanlar avlanmalıdır.

4. Aşağıdaki başlıca kaplıcalarımızdan hangisi bulunduğu şehir ile doğru olarak eşleştirilmemiştir?

- A) Adana-Haruniye
- B) Denizli-Pamukkale
- C) Eskişehir-Çiftehane
- D) Bursa-Armutlu Kaplıcaları
- E) Ankara-Haymana

- 5. I. İklimin elverişsiz oluşu
- II. Ulaşımın yetersizliği
- III. Tarihi eserlerin azlığı

Yukarıdakilerden hangileri Doğu Anadolu Bölgesi'nin turizm yönünden gelişimini engellemektedir?

- A) Yalnız I
- B) Yalnız II
- C) I ve II
- D) II ve III
- E) I, II ve III

6. Ilıcaların kaplıcalardan farkı aşağıdakilerden hangisidir?

- A) Üzerinin açık olması
- B) Su sıcaklığının daha fazla olması
- C) Sularında magnezyum olmaması
- D) Gelen kişi sayısının daha az olması
- E) İşletmelerinin devlete ait olması

7. Av turizmine açılacak avlaklar aşağıdakilerden hangisi tarafından tespit ve ilan edilmektedir?

- A) Kaymakam
- B) Orman Müdürlükleri
- C) Muhtar
- D) Çevre ve Orman Bakanlığı
- E) Vali

B

2012 3D 0105-B

8. I. Gençlerin psikolojik yapıları gereği hareket, macera ve değişime açık olmaları
II. Gençlerin aile bağları ve sorumluluklarının az olması
III. Gençlerin konaklama yerlerinin seçiminde titiz davranmamaları

Yukarıdakilerden hangileri gençlerin turistik hareketlere katılma düzeyinin diğer yaşlardan daha yüksek olma nedenleridir?

- A) Yalnız I
B) Yalnız II
C) I ve II
D) II ve III
E) I, II ve III

9. Turizmin en önemli özelliği aşağıdakilerden hangisidir?

- A) Sürekli büyüyen bir endüstri olması
B) Seyahat imkanı sağlaması
C) İnsanları kaynaştırması
D) Kültür farklılıklarını ortadan kaldırması
E) Ekonomik bir olgu olması

10. Ülkemizde klimatizm açısından önem taşıyan yerlere verilebilecek örnek aşağıdakilerden hangisidir?

- A) Pamukkale
B) Kurşunlu
C) Damlatış ve İnsuyu mağaraları
D) Ortakçı
E) Karaköy

11. Turizm yatırımları, yeni iş alanlarının oluşturulması ve mevcut iş alanlarının geliştirilmesi, gelişmekte olan ülkelerin en önemli sosyal ve ekonomik sorunlarından biri olan işsizliği azaltmaktadır.

Bu ifade turizmin ekonomik etkilerinden hangisini açıklamaktadır?

- A) Yatırım kaynağı olma etkisi
B) Döviz etkisi
C) Gelir kaynağı olma etkisi
D) Refah düzeyinin yükselmesine etkisi
E) Kişi başına düşen milli gelirin artırılmasına etkisi

12. Turizm bakımından etkilenmiş bir görünüme sahip bulunan, ekonomik yapısı ve hayatı turizmin etkilerini yansıtan yere ne ad verilir?

- A) Doğal park
B) Turistik bölge
C) Milli park
D) Turistik yöre
E) Doğal gezi alanları

13. Kızılay tarafından açılan gençlik ve sağlık kampları kaç yaş grubuna öncelik tanımaktadır?

- A) 6-7
B) 8-9
C) 11-17
D) 18-20
E) 21-24

14. Aşağıdakilerden hangisi sağlık turizminin düzenlenmesiyle ilgili ilkelerden biri değildir?

- A) Tesislerde gerekli araç gereç bulundurulması
B) Tesislerde kaliteli hizmet verilmesi
C) Tesislere ulaşımın kolay olması
D) Yıllık olarak suların tıbbi analizinin yapılması
E) Tesislerin tanıtımının iyi yapılması

2012 3D 0105-B

15. Aşağıdakilerden hangisi turizmin finansal etkileri arasında yer almaz?

- A) Turizmin görünmeyen ihracat olarak ekonomiye olumlu etkisinin olması
- B) Turizmin geleneksel dış satıma bağımlılığı artırması
- C) Turizm sayesinde dış satımı olanaklı olmayan varlıkların bazı hizmetlerin ihracatının yapılması ve ülkeye döviz girişi sağlanması
- D) Turizmin, mevsimsel dalgalanmalar ile olumlu iç ve dış gelişmelerden yavaş etkilenmesi
- E) Turizm sektörünün çok çeşitli olması nedeniyle, turizmin ulusal ekonomi içinde otelleri, eğlence hizmeti veren işletmeleri, ulaştırma işletmelerini etkilemesi

16. Dünyada kültür turizmi kaç yılından beri bütün ayrıntılar düşünülerek yapılmaktadır?

- A) 1950'li yıllar
- B) 1940'lı yıllar
- C) 1930'lu yıllar
- D) 1925'li yıllar
- E) 1920'li yıllar

17. Av turizmi düzenleyen seyahat acentalarının bu faaliyette bulunmak için almaları gereken sertifikayı aşağıdakilerden hangisi verir?

- A) Valilik
- B) İçişleri Bakanlığı
- C) Kaymakamlık
- D) Çevre ve Orman Bakanlığı
- E) Orman Müdürlükleri

18. Aşağıdakilerden hangisi Doğu Anadolu Bölgesi'nde turistlerin en çok ilgisini çeken yerler arasında yer almaz?

- A) Akdamar Adası
- B) Boğazköy Alacahöyük Milli Parkı
- C) Muradiye ve Gürlevik Çağlayanı
- D) Kommagene Krallığı dönemi ait kalıntıların bulunduğu Nemrut Dağı
- E) İshak Paşa Sarayı'nın bulunduğu Doğu Beyazıt

19. Aşağıdakilerden hangisi turizm yatırımlarının doğrudan ulusal gelir üzerinde etkide bulunmasının yanı sıra, olumlu etkide bulunduğu iş alanlarından biri değildir?

- A) Mobilya-dekorasyon
- B) Demir-çelik
- C) İnşaat
- D) Tarım
- E) Gıda

20. Ülkemizin kültür turizminin önündeki en büyük engel aşağıdakilerden hangisidir?

- A) Kültür hazinelerine gereken değerin verilmemesi
- B) Kültür mirası bilincinin olmaması
- C) Ülkemiz coğrafyasında dağlık bölgelerin fazla olması
- D) Tarihi yerlerin azlığı
- E) Tanıtım eksikliği

2012 3D 0105-B

1. Aşağıdakilerden hangisi verginin özellikleri arasında yer almaz?

- A) Gerçek ve tüzel kişilerden alınır.
- B) Devletin egemenlik gücüne dayanır.
- C) Hizmet kalitesine göre oranı belirlenir.
- D) Belirli bir karşılık yoktur.
- E) Para ile ödenir.

2. Vergi alacağının doğduğu takvim yılını izleyen yılın başından başlayarak kaç yıl içinde tarh ve tebliğ edilmeyen vergi zamanaşımına uğrar?

- A) 1
- B) 2
- C) 3
- D) 4
- E) 5

3. Bilinen bir olay ve olgudan başka bir olay veya olgunun var olduğu sonucunun çıkarılması ve aksi kanıtlanmadıkça bu varsayımın doğru kabul edilmesi haline ne ad verilir?

- A) Tahmin
- B) Karine
- C) Gaib
- D) Teselsül
- E) Tekeffül

4. Aşağıdakilerden hangisinde en çok karşılaşılan faiz türleri bir arada verilmiştir?

- A) Basit-bileşik
- B) Vadeli-vadesiz
- C) Artan oranlı-azalan oranlı
- D) Süreli-süresiz
- E) Teminatlı-teminatsız

5. Aşağıdakilerden hangisi Türk Ticaret Kanunu'na göre ticari işletme niteliğindedir?

- A) Marangoz atölyesi
- B) İletişim şirketi
- C) Bakkal
- D) Berber dükkanı
- E) Kasap

6. Aşağıdakilerden hangisi kurumlar vergisinin yükümlüsü olan kurumlardan biri değildir?

- A) Esnaf işletmesi
- B) Kooperatifler
- C) İktisadi kamu kurumları
- D) Dernek ve vakıflara ait ekonomik işletmeler
- E) İş ortaklıkları

7. Aşağıdakilerden hangisi servet üzerinden alınan vergilerden biri değildir?

- A) Emlak vergisi
- B) Taşıt alım vergisi
- C) Banka ve sigorta muameleleri vergisi
- D) Motorlu taşıtlar vergisi
- E) Veraset ve intikal vergisi

8. İlk modern ticaret kanunumuz hangi yıl yürürlüğe girmiştir?

- A) 1923
- B) 1924
- C) 1926
- D) 1927
- E) 1929

9. Aşağıdakilerden hangisi, iş sözleşmesini fesih dışı nedenlerle sona erdiren sebeplerden biridir?

- A) Tarafların anlaşma niyetinin olması
- B) Doğru sürenin sona ermesi
- C) Tarafların anlaşamaması
- D) Süresiz fesih bildirimi
- E) Süreli fesih bildirimi

10. Bedeni ve zihni çalışma veya emeğin bir sermaye ile birleştirilmesiyle sağlanan değerlere ne denir?

- A) Gelir
- B) İrat
- C) Safi tutar
- D) Temettü
- E) Kazanç

2012 3D 0105-B

11. Gelir vergisinin konusunu oluşturan gelirler kime ait gelirlerdir?

- A) Gerçek kişi
- B) Tüzel kişi
- C) Esnaf kişi
- D) Tüccar kişi
- E) Çiftçi

12. Ticari işlere uygulanacak hukuk kurallarında izlenecek sıra içinde aşağıdakilerden hangisi bulunmamaktadır?

- A) Diğer kanunlarda yer alan ticari işleme ilişkin hukuk kuralları
- B) Hakimin bilgi ve tecrübesiyle edindiği ve uyguladığı kurallar
- C) Ticari örf ve adet kuralları
- D) Ticaret kanununun kuralları
- E) Genel hukuk kuralları

13. Vergi, sadece değer üzerinden yapılırsa bu hesaplama yöntemine ne ad verilir?

- A) Dolaysız vergi
- B) Spesifik
- C) Katma değer
- D) Dolaylı vergi
- E) Advalorem

14. İş kanununa göre, kıdem tazminatı olarak işçinin çalıştığı her tam yıl için kaç günlük brüt ücreti tutarında para ödenir?

- A) 15
- B) 20
- C) 25
- D) 30
- E) 35

15. Aşağıdakilerden hangisi başarılı işçiye ek olarak ödenen ücrettir?

- A) Zamana göre
- B) Akord ücret
- C) Yüzdeye göre ücret
- D) Prim
- E) Parça başı ücret

16. Aşağıdaki üretim faktörüne dayanan hasıla eşleşmelerinden hangisi yanlıştır?

- A) Memur payı-ikramiye
- B) Emek payı-ücret
- C) Sermaye payı-faiz
- D) Tabiat payı-kira
- E) Müteşebbis payı-kâr

17. Aşağıdakilerden hangisi kambiyo senedidir?

- A) Taşıma senedi
- B) Varant
- C) Emtia senedi
- D) Poliçe
- E) Taşıma işleri senedi

18. Aşağıdakilerden hangisi kamu hizmetinin niteliklerinden biri değildir?

- A) Ülkenin veya halkın tamamına veya bir bölümüne yönelik olabilir.
- B) Aynı hukuki durumda olanlar hizmetlerden aynı şekilde yararlanamaz.
- C) Kamuya yönelik ve kamuya yararlı olmalıdır.
- D) Süreklilik esastır.
- E) Eşitlik esasına göre yürütülür.

19. Gerçekleşmesi halinde tazminatın ödeneceği, yangın, kaza, hastalık, ölüm, kuraklık gibi olaylar sigortacılık dilinde aşağıdakilerden hangisiyle adlandırılır?

- A) Prim
- B) Sigorta bedeli
- C) Acenta
- D) Menfaat
- E) Riziko

20. Haksız eylemi işleyen veya onu istihdam eden kişiler tazminat ödemek zorunda kaldıkları zaman uğrayacakları zararı karşılamak için yapılan sigorta hangisidir?

- A) Can sigortası
- B) Mükerrer sigorta
- C) Mali sorumluluk
- D) Yangın sigortası
- E) Mal sigortası

DİL VE ANLATIM 8

B

2012 3D 0105-B

1. Bir konuyu, bir olayı, bir eseri ele alıp çeşitli özelliklerini ayrıntılarıyla inceleyen ve onunla ilgili birtakım sonuçlara ulaşan ya da bir görüşü, bir iddiayı belge ve kanıtlarla destekleyerek savunan yazılara ne ad verilir?

A) Makale
B) Fıkra
C) Deneme
D) Eleştiri
E) Mülakat

2. Bir heyecan içinde, her zamanki tabiat olaylarını, kendine göre yorumlayarak onlara tabiat dışı ve şairane nedenler yakıştırma sanatına ne ad verilir?

A) Tenasüp
B) Teşhis
C) Mübalağa
D) İntak
E) Hüsn-i Tâil

3. Aşağıdakilerden hangisi bilimsel yazılar içerisinde yer almaz?

A) Toplantı özetleri
B) Tiyatro metinleri
C) Değerlendirme yazıları
D) Bilimsel makaleler
E) Konferans raporları

4. Yazılışı aynı fakat anlamı bambaşka olan sözcüklerle hangi sanat yapılır?

A) Uyak
B) Mecaz
C) Aliterasyon
D) Mübalağa
E) Cinaz

5. "Dost dost diye nicesine sarıldım
Benim sadık yârim kara topraktır
Beyhude dolandım boşa yoruldum
Benim sadık yârim kara topraktır"

Yukarıdaki beyitle ilgili aşağıdaki ifadelerden hangisi yanlıştır?

A) Hecenin 11'li kalıbı kullanılmıştır.
B) Kafiye düzeni aaab şeklindedir.
C) Hece ölçüsüyle söylenmiştir.
D) Dili sadedir.
E) Kara toprak, sadık bir yar olarak tanımlanmaktadır.

6. Türk edebiyatında makalenin gelişimine bakıldığında 1860'da ilk makale kim tarafından yazılmıştır?

A) Namık Kemal
B) Hüseyin Cahit
C) Baki
D) Nefi
E) Şinasi

7. Aşağıdakilerden hangisi Türk halk şiiri nazım biçimlerinden biri değildir?

A) Koşma
B) Türkü
C) Murabba
D) Mani
E) İlahi

8. Artık demir almak günü gelmişse zamandan
Meçhule giden bir gemi kalkar bu limandan
Hiç yolcusu yokmuş gibi sessizce alır yol;
Sallanmaz o kalkışta ne bir mendil ne bir kol.

Yahya Kemal'in Sessiz Gemi isimli yukarıda bir parçası verilen şiiri hangi sanata dayalı alegorik bir şiirdir?

A) Temsili istiare
B) Kinaye
C) Cinaz
D) Tariz
E) Tenasüp

9. Aşağıdakilerden hangisi kafiye çeşitlerinden biri değildir?

A) Yarım kafiye
B) Cinazlı kafiye
C) Zengin kafiye
D) Heceli kafiye
E) Tam kafiye

10. Mecazlı veya açık olarak birbirleriyle anlam ilgisi olan sözcük yahut kavramların aynı beyit veya cümlede bulunmasına ne ad verilir?

A) Teşbih
B) Tariz
C) Cinaz
D) Kinaye
E) Tenasüp

B

2012 3D 0105-B

11. Aşağıdakilerden hangisi başlıca şiir türlerinden biri değildir?

- A) Pastoral
- B) Didaktik
- C) Tragedya
- D) Lirik
- E) Epik

12. Bir şiirin en güzel dizesine ne ad verilir?

- A) Makta
- B) Aliterasyon
- C) Mısra-ı berceste
- D) Matla
- E) Beyit

13. İnsanlarda bulunan özellikleri hayvanlara, bitkilere veya cansız varlıklara verme sanatına ne ad verilir?

- A) Hüsn-i Tâil
- B) Mübalağa
- C) Tenasüp
- D) Teşhis
- E) Tevriye

14. Milli ölçümüz olarak nitelendirilen ve halk edebiyatında sıkça kullanılan ölçü aşağıdakilerden hangisidir?

- A) Serbest ölçü
- B) Halk ölçüsü
- C) Aruz ölçüsü
- D) Hece ölçüsü
- E) Koşma ölçüsü

15. Tek bir sözcüğün, aynı beyitte birden fazla anlama gelecek şekilde kullanıldığı ve divan edebiyatında çok görülen sözcük sanatı aşağıdakilerden hangisidir?

- A) Tevriye
- B) Teşbih
- C) Tenasüp
- D) Tariz
- E) Teşhis

16. Anadolu Türk edebiyatının kurucusu, tekke, divan ve halk edebiyatlarının tümüne esin kaynağı olarak görülen şair aşağıdakilerden hangisidir?

- A) Mehmet Akif
- B) Bedri Rahmi
- C) İlhan Berk
- D) Yunus Emre
- E) Yahya Kemal

17. Agah Efendi ve Şinasi'nin 1860'da çıkardıkları ilk özel gazete hangisidir?

- A) Güneş
- B) Tercüman-Ahval
- C) Ceride-i Havadis
- D) Memleket
- E) İntibah

18. Duygu, düşünce ve hayallerin ölçülü, uyaklı dizeler halinde örülmüş biçimine ne ad verilir?

- A) Menkıbe
- B) Nesir
- C) Nazım
- D) Murabba
- E) Koşma

19. Makaleyle ilgili aşağıdaki ifadelerden hangisi yanlıştır?

- A) Sonuç bölümünde, makalede söylenenler bir yargıya bağlanır.
- B) Makalede temel öge duygudur.
- C) Bilimsel bir anlatım ağır basar.
- D) Gazetede ilk sayfa ve birinci sütunda yer alan ve günlük olaylar, ülke sorunları hakkında görüşleri yansıtan yazılara başmakale adı verilir.
- E) Üslup yönünden üçüncü tekil anlatım tercih edilir.

20. Aşağıdakilerden hangisi Divan şiirinin özelliklerinden biri değildir?

- A) Nazım biriminin dörtlülük olması
- B) Aruz ölçüsünün kullanılması
- C) Arap ve Fars edebiyatının etkisinin görülmesi
- D) Dilinin ağır olması
- E) Gazel, kaside, mesnevi gibi nazım biçimlerinin kullanılması

TÜRK EDEBİYATI 4

B

2012 3D 0105-B

1. "Manas Destanı" kime aittir?

- A) Göktürklerle
- B) Uygurlara
- C) Kırgızlara
- D) Sümerlere
- E) Sakalara

2. Şunlar ki çoktur malları
Gör nice oldu halleri
Son ucu bir gömlek imiş
Anın da yoktur yenleri

Yunus Emre'nin yukarıdaki dörtlüğü ile ilgili olarak aşağıdakilerden hangisi söylenemez?

- A) Beşeri aşkın işlendiği
- B) Hece ölçüsüyle yazıldığı
- C) Dört dizeden oluştuğu
- D) İlahî örneği olduğu
- E) Ölümün en büyük ibret olduğu ve Tanrı düşüncesinin dile getirildiği

3. İlk dizesi yedi heceden daha az olan manilere ne ad verilir?

- A) Düz mâni
- B) Mâni
- C) Ayaklı mâni
- D) Eksik mâni
- E) Kesik mani

4. Aşağıdakilerden hangisi, Tanrı aşkını, tasavvuf düşüncesini işleyen türlerden biridir?

- A) Hikmet
- B) Ağıt
- C) Öğüt
- D) Tegazzül
- E) Nesîb

5. Aşağıdakilerden hangisi ilk islami eserlerimizden biri değildir?

- A) Cemşid ü Hurşid
- B) Kutadgu Bilig
- C) Atabetü'l – Hakâyık
- D) Divân-ü Lûgati't-Türk
- E) Divân-ı Hikmet

6. Aşağıdakilerden hangisi, Nasreddin Hoca, Bektaşî, İncili Çavuş gibi meşhur fıkraların ortak özelliklerinden biri değildir?

- A) Mizahi olmaları
- B) Güldürürken düşündürmeleri
- C) Manzum olmaları
- D) İnce kıvrak zekânın ürünü olmaları
- E) Hazırcevaplığı ve nükte ustalığını yansıtmaları

7. Bir devlet büyüğünün ölümünden duyulan derin üzüntüyü dile getiren şiirlere, Divan edebiyatında ne ad verilir?

- A) Fahriye
- B) Hicviye
- C) Medhiye
- D) Girizgâh
- E) Mersiye

8. Kültürel tarihimizi aydınlatacak düşüncelerin, toplumun değer yargılarının ele alınıp işlendiği "Siyasetnâme" türünün ilk örneği sayılan "Kutadgu Bilig"in yazarı kimdir?

- A) Yusuf Has Hacı
- B) Hoca Ahmet Yesevî
- C) Edip Ahmet Yükneki
- D) Hacı Bektaş Velî
- E) Yunus Emre

9. Aşağıdakilerden hangisi Tasavvuf şiirinin konusu olabilir?

- A) Savaş
- B) Sevgili
- C) Güzellik
- D) İlahî aşk
- E) Özlem

10. Âşık Paşa'nın didaktik mesnevisi, aşağıdakilerden hangisidir?

- A) Risaletü'n-Nushiyye
- B) Hüsn ü Aşk
- C) Garibnâme
- D) Hayriyye
- E) Lûtfiyye

B

2012 3D 0105-B

11. XVII. yüzyılda yazdığı kaside hicivleriyle öne çıkan şair aşağıdakilerden hangisidir?

- A) Nabî
- B) Nef'î
- C) Nedim
- D) Veysî
- E) Ruhî

12. Gazel nazım şeklinde şairin takma adının geçtiği son beyite ne ad verilir?

- A) Beytül-gazel
- B) Mahlas
- C) Matla beyit
- D) Yek-âvâz gazel
- E) Makta beyit

13. Aladır gözlerin siyahtır kaşın
Aradım cihanı bulunmaz eşin
Yaylanın karından beyazdır düşün
Uzanıp üstüne ölesim geldi

Yukarıdaki dörtlülle ilgili aşağıdakilerden hangisi yanlıştır?

- A) Halk şiirinden alınmıştır.
- B) Nazım birimi dörtlüktür.
- C) 11'li hece ölçüsü vardır.
- D) Aruz ölçüsü kullanılmıştır.
- E) 6+5 duraklıdır.

14. Aşağıdakilerden hangisi Tasavvufî ile ilgili değildir?

- A) İlâhî
- B) Gazel
- C) Münacaat
- D) Sathîye
- E) Nefes

15. Aşağıdakilerden hangisi Türk edebiyatında romanın yerini tutan uzun kahramanlık hikâyelerinden biridir?

- A) Vakayiname
- B) Battalname
- C) Seyahatname
- D) Şikayetname
- E) Tazarrunname

16. Aşağıdakilerden hangisi Tasavvuf şairi değildir?

- A) Mevlâna
- B) Yunus Emre
- C) Hacı Bektaş Veli
- D) Karacaoğlan
- E) Ahmet Yesevî

17. Aşağıdakilerden hangisi edebiyatımızdaki ilk öğretici eser sayılabilir?

- A) Atabet'ül Hakâyık
- B) Divan-ı Hikmet
- C) Danişmendnâme
- D) Kutadgu Bilig
- E) Divan-ı Lügat'it Türk

18. Halk şiirinin yakın dönemde yetişen, en güçlü, en duyarlı seslerindendir. Çocukken geçirdiği çiçek hastalığı yüzünden gözlerini yitmiştir.

Yukarıda sözü edilen saz şairi aşağıdakilerden hangisidir?

- A) Öksüz Dede
- B) Aşık Veysel
- C) Dadaloğlu
- D) Karacaoğlan
- E) Koroğlu

19. Divan-ı Hikmet'in yazarı aşağıdakilerden hangisidir?

- A) Kaşgarlı Mahmut
- B) Yusuf Has Hacib
- C) Yükneklî Edip Ahmet
- D) Yunus Emre
- E) Ahmet Yesevî

20. Öğretmek amacıyla ele alınan edebî eserlere ne ad verilir?

- A) Lirik
- B) Pastoral
- C) Didaktik
- D) Satirik
- E) Dramatik

TÜRK EDEBİYATI 6

B

2012 3D 0105-B

1. "Siyah İnciler" adlı mensur şiir kitabı, aşağıdaki yazarlardan hangisine aittir?

- A) Mehmet Rauf
- B) Halit Ziya Uşaklıgil
- C) Ahmet Samim
- D) Emin Bülent
- E) Tahsin Nahit

2. Parnasizmin en önemli özelliği aşağıdakilerden hangisidir?

- A) Sanat için sanat anlayışına karşı çıkılması
- B) Üç birlik kuralına uyulması
- C) Noktalama işaretlerinin atılması
- D) Kişisel duyguların aktarımına karşı çıkılması
- E) Duygudan çok tasvire, düşünceye, biçim ve söyleyiş güzelliğine önem verilmesi

3. Türk edebiyatında "Han Duvarları" ve "Çoban Çeşmesi" şiirleriyle tanınan; sade dil ve hece ölçüsünü ustalıklı kullanan; fıkra, manzum oyun, roman türünde de eser veren sanatçı kimdir?

- A) Mehmet Emin Yurdakul
- B) Yahya Kemal Beyatlı
- C) Faruk Nafiz Çamlıbel
- D) Ahmet Mithat Efendi
- E) Ahmet Hikmet Müftüoğlu

4. Aşağıdakilerden hangisi Ahmet Haşim'in eserlerinden biri değildir?

- A) Bize Göre
- B) Altın Işık
- C) Piyale
- D) Frankfurt Seyahatnamesi
- E) Göl Saatleri

5. Aşağıdaki yazar ve eseri eşleştirmelerinden hangisi yanlıştır?

- A) Hüseyin Cahit Yalçın-Kırk Yıl
- B) Halit Ziya Uşaklıgil-Bir Ölü'nün Defteri
- C) Ali Ekrem Bolayır-Ordunun Defteri
- D) Tevfik Fikret-Ferda
- E) Mehmet Rauf-Sansür

6. "Elhan-ı Şita" adlı şiirinde heceleri müzik düzeyinde kullanan şair, aşağıdakilerden hangisidir?

- A) Ali Canip
- B) Cenap Şehabettin
- C) Hüseyin Suat
- D) Tevfik Fikret
- E) Tahsin Nihat

7. Aşağıdakilerden hangisi Servet-i Fünûn edebiyatının özelliklerinden biri değildir?

- A) Şiirde sembolizm ve parnasizmin kullanılması
- B) Kulağa göre kafiye anlayışının benimsenmesi
- C) Nazım birimi olarak mısra kullanılması
- D) Aruz ölçüsü kullanılması
- E) Toplumsal temalara değinilmesi

8. "Kösem Sultan, Hicranlar ve Firar" adlı tiyatro eserleri aşağıdaki yazarlardan hangisine aittir?

- A) Halit Ziya Uşaklıgil
- B) Mehmet Rauf
- C) Namık Kemal
- D) Tahsin Nahit
- E) Süleyman Nazif

9. Aşağıdakilerden hangisi, Reşat Nuri Güntekin'in eserlerinden biri değildir?

- A) Vurun Kahpeye
- B) Dudaktan Kalbe
- C) Yeşil Gece
- D) Yaprak Dökümü
- E) Acımak

10. Aşağıdakilerden hangisi, Milli Edebiyat akımının temsilcilerinden biri değildir?

- A) Ali Canip Yöntem
- B) Halit Fahri Ozansoy
- C) Mehmet Emin Yurdakul
- D) Ömer Seyfettin
- E) Ziya Gökalp

B

2012 3D 0105-B

11. Sembolistlerden etkilenip resim ve müziği şiirinde birleştirmeye çalışan Servet-i Fünûn şairi, aşağıdakilerden hangisidir?

- A) Cenap Şehabettin
- B) Ali Ekrem Bolayır
- C) Hüseyin Suat
- D) Süleyman Nazif
- E) Tevfik Fikret

12. Aşağıdaki sanatçılardan hangisi, hem Fecr-i Âtî, hem de Milli Edebiyat Dönemi içinde yer almıştır?

- A) Yahya Kemal Beyatlı
- B) Mehmet Emin Yurdakul
- C) Ahmet Haşim
- D) Süleyman Nazif
- E) Celâl Sahir

13. Aşağıdakilerden hangisi Mehmet Raufun eserlerinden biri değildir?

- A) Cidâl
- B) Bir Aşkın Tarihi
- C) Üç Hikâye
- D) Son Emel
- E) Mai ve Siyah

14. Aşağıdakilerden hangisi, Halide Edip Adıvar'ın eserlerinden biri değildir?

- A) Türkün Ateşle İmtihanı
- B) Ateşten Gömlek
- C) Yaban
- D) Kalp Ağrısı
- E) Sinekli Bakkal

15. Aşağıdakilerden hangisi "saf şiir" anlayışının özelliklerinden biri değildir?

- A) Söze önem verilmesi
- B) Sosyal temalardan çok bireysel duyarlılığın tercih edilmesi
- C) Ritm ve ahenge önem verilmesi
- D) Nazmın nesre yaklaşması
- E) Anlamın kapalı olması

16. "Çalıkuşu" adlı roman aşağıdaki yazarlardan hangisine aittir?

- A) Mehmet Rauf
- B) Reşat Nuri Güntekin
- C) Yakup Kadri Karaosmanoğlu
- D) Halit Ziya Uşaklıgil
- E) Halide Edip Adıvar

17. Aşağıdakilerden hangisi sembolizmin özelliklerinden biri değildir?

- A) Sözcüklerdeki ahenk ve müziğin şiirle birleşmesi
- B) İlk olarak Fransa'da başlaması
- C) Doğa değil, onun insan ruhunda bıraktığı izlenimlerin anlatılması
- D) 19. yüzyılın ikinci yarısından sonra pamasizme tepki olarak ortaya çıkması
- E) "Sanat toplum içindir." anlayışının savunulması

18. Klasik olay hikâyesi tarzında yazan, Ömer Seyfettin'in de örnek aldığı Fransız yazar, aşağıdakilerden hangisidir?

- A) La Fontaine
- B) Voltaire
- C) Guy de Maupassant
- D) Moliere
- E) Montaigne

19. Aşağıdakilerden hangisi, Faruk Nafiz Çamlıbel'in eserlerinden biri değildir?

- A) Han Duvarları
- B) Dinle Neyden
- C) Yıldız Yağmuru
- D) Kızıl Elma
- E) Şarkın Sultanları

20. "Kiralık Konak, Nur Baba, Sodem ve Gomore, Hüküm Gecesi" adlı romanlar aşağıdaki yazarlardan hangisine aittir?

- A) Reşat Nuri Güntekin
- B) Halit Ziya Uşaklıgil
- C) Halide Edip Adıvar
- D) Yakup Kadri Karaosmanoğlu
- E) Ahmet Rauf

FİZİK 5

B

2012 3D 0105-B

1. Elektrik yüklerinin birbirlerini ittiğini veya çektiğini deneylerle ispatlayan bilim adamı aşağıdakilerden hangisidir?

A) Walter
B) Albers
C) Coulomb
D) Bilton
E) Burghardt

2. 4 metre uzunluğundaki bir ipin ucuna bağlı 0,5 kg'lık bir cisim yatay düzlemde 8 m/s'lik hızla döndürüldüğünde ipteki gerilme kuvveti kaç N olur?

A) 2
B) 4
C) 6
D) 8
E) 10

3. Herhangi bir anda cismin bulunduğu noktanın denge konumuna (orjine) olan uzaklığına ne ad verilir?

A) Genlik
B) Uzanım
C) Periyot
D) Frekans
E) Çarpıntı

4. 80 metre yükseklikten serbest düşmeye bırakılan bir cisim yere kaç saniye sonra çarpar? (hava sürtünmesi önemslenmeyecek, ve $g=10\text{m/s}^2$ alınacaktır.)

A) 2
B) 3
C) 4
D) 5
E) 6

5. Aşağıdakilerden hangisi elektroskop cihazının parçalarından biri değildir?

A) Metal çubuk
B) İletken küre
C) Yapraklar
D) Gösterge
E) Lamel

6. Bir roketin toplam kütlesi 3.000 kg'dır. Roketten 400 m/s hızla 600 kg'lık yakıt atıldığında roket kaç m/s'lik hız kazanır?

A) 500
B) 1.000
C) 1.500
D) 2.000
E) 2.500

7. I. Metal çubuk
II. Cam
III. Ebonit
IV. Plâstik

Yukarıdaki maddelerden hangilerinde elektrik yükleri kolayca yer değiştirmektedir?

A) Yalnız I
B) I ve II
C) II ve III
D) II ve IV
E) I, III ve IV

8. I. Yörüngeler Kanunu
II. Alanlar Kanunu
III. Periyotlar kanunu

Yukarıdakilerden hangileri Kepler Kanunlarındandır?

A) Yalnız I
B) Yalnız III
C) I ve II
D) II ve III
E) I, II ve III

9. Aşağıdaki santrallerden hangisinin yakıt türü doğal gazdır?

A) Tunçbilek
B) Ambarlı
C) Afşin
D) Aliağa
E) Kangal

10. Bir transformatörün primeri 440, skonderi 50 sarılımdır. Primere 220 V'luk alternatif gerilim uygulanırsa sekonderdeki gerilim kaç volt olur?

A) 10
B) 15
C) 20
D) 25
E) 30

B

2012 3D 0105-B

11. Bir elektrik devresinden geçen akım şiddetini değiştirmeye yarayan araç aşağıdakilerden hangisidir?

- A) Reosta
- B) Anahtar
- C) Ampul
- D) Motor
- E) Ampermetre

12. Bir cismin iki nokta arasında eş zamanlı (periyodik olarak) ve değişen ivmeli olarak yaptığı titreşim (devir) hareketine ne ad verilir?

- A) Çizgisel hız
- B) Serbest düşme hareketi
- C) Açısal hız
- D) Kompleks harmonik hareket
- E) Basit harmonik hareket

13. Kütle numaraları küçük iki atom çekirdeğinin uygun şartlarda birleşerek daha büyük atom çekirdeği oluşturmaya ne ad verilir?

- A) Paratoner
- B) Düffzyon
- C) Fizyonomi
- D) Fizyon
- E) Elektrolit

14. 36 km/s hızla hareket eden 1.800 kg kütleli bir kamyonla eşit momentuma sahip olabilmesi için 1.200 kg kütleli bir otomobilin hızı kaç m/s olmalıdır?

- A) 10
- B) 15
- C) 20
- D) 25
- E) 30

15. Bir iletkenin boyu ilk boyunun 4 katına çıkartılırsa, direnci ilk direncinin kaç katı olur?

- A) 2
- B) 3
- C) 4
- D) 5
- E) 6

- 16. I. Piller
- II. Akümülatörler
- III. Dinamolar

Yukarıdakilerden hangileri günümüzde kullanılan en yaygın doğru akım kaynaklarındandır?

- A) Yalnız I
- B) Yalnız II
- C) I ve II
- D) II ve III
- E) I, II ve III

17. Aşağıdaki maddelerden hangisi diğerlerine göre daha az iletkenliğe sahiptir?

- A) Demir
- B) Altın
- C) Bakır
- D) Alüminyum
- E) Gümüş

- 18. I. Hidroelektrik santralleri
- II. Termik santraller
- III. Nükleer santraller

Yukarıdaki santrallerden hangileri baraj göllerinde toplanan suyun potansiyel ve kinetik enerjisinden elektrik enerjisi üretir?

- A) Yalnız I
- B) Yalnız II
- C) I ve II
- D) II ve III
- E) I, II ve III

- 19. I. Proton
- II. Nötron
- III. Bariton

Yukarıdakilerden hangileri atomu oluşturan taneciklerden biri değildir?

- A) Yalnız I
- B) Yalnız II
- C) Yalnız III
- D) I ve II
- E) II ve III

20. Bir elektrik devresinden 2 dakikada 2.400 C'luk yük geçtiğine göre devrenin akım şiddeti kaç amperdir?

- A) 5
- B) 10
- C) 15
- D) 20
- E) 25

EKONOMİ 1

B

2012 3D 0105-B

1. Aşağıdakilerden hangisi Ekonomi biliminin temelini oluşturur?

- A) Enflasyon
- B) Değer
- C) Para
- D) Büyüme
- E) Kıtlik

2. Aşağıdakilerden hangisi ekonomik ihtiyaç değildir?

- A) Hava ihtiyacı
- B) Konut ihtiyacı
- C) Elbise satın almak
- D) Televizyon ihtiyacı
- E) Seyahat etmek

3. Ekonomi biliminde doğruluğu tartışmasız kabul edilen bazı temel varsayımlardan hareket ederek bunların tek olaylara uygulanması esasına dayanan yöneme ne ad verilir?

- A) Tümevarım yöntemi
- B) Cebirsel yöntem
- C) Karma yöntem
- D) Tümdengelim yöntemi
- E) Mantıksal akıl yürütme yöntemi

4. İlk İktisat Kongresi hangi yıl yapılmıştır?

- A) 1919
- B) 1920
- C) 1923
- D) 1925
- E) 1927

5. Ekonomide çalışmak isteyen herkese iş alanı sağlanması, var olan kaynakların tam ve etkili şekilde kullanılması ekonomi politikasının aşağıdaki hedeflerinden hangisinin içinde yer alır?

- A) Gelir dağılımını dengelemek
- B) Tam istihdamı sağlamak
- C) Tekel piyasalarını arttırmak
- D) Dış ödemeler dengesini sağlamak
- E) Ekonomik kalkınmayı sağlamak

6. Aşağıdakilerden hangisi ihtiyaç yasalarından biri değildir?

- A) İhtiyaçlar birbirine rakiptir.
- B) Bazı ihtiyaçların kapasiteleri sınırlıdır.
- C) İhtiyaçlar yaşla ilgilidir.
- D) İhtiyaçların miktarı sınırsızdır.
- E) İhtiyaçlar değişmektedir.

7. Bir vasıtanın mal olabilmesi için gerekli olan özellik aşağıdakilerden hangisidir?

- A) Sadece ihtiyacı karşılamaya yeterli olması
- B) İnsanların elde etmek için çaba göstermeleri gerekmemesi
- C) Herhangi bir ödeme yapılmadan sahip olunması
- D) Zaman içinde doğada tükenmesi
- E) Üretiminin mümkün olması ve sağlanması için çaba harcanması

8. Aşağıdakilerden hangisi zorunlu ihtiyaçlara cevap veren mallardandır?

- A) Kitap
- B) Ekmek
- C) Konut
- D) Televizyon
- E) Elbise

9. Aşağıdakilerden hangisi, yönlendirici vasıtalarla bir örnek değildir?

- A) Kamulaştırma
- B) Nüfus planlaması
- C) Tarım ürünleri fiyatını destekleme önlemleri
- D) İhracatı destekleme önlemleri
- E) Yatırımları destekleme önlemleri

10. Aşağıdakilerden hangisi, enerji kaynaklarının bir üretim faktörü olarak öneminin artmasının nedenlerinden biri değildir?

- A) Sanayileşmenin hızlanması
- B) Hızlı nüfus artışı
- C) Toplumun refah düzeyinin düşmesi
- D) Tarım sektöründeki modernleşme
- E) Üretim miktarının artışı

B

2012 3D 0105-B

11. İnsanların ihtiyaçlarını doğrudan doğruya karşılamaya uygun olan, üretilebilen ve doğada belirli miktarda bulunan vasıtalar ne ad verilir?

- A) Değer
- B) Mal
- C) İhtiyaç
- D) Sermaye
- E) Emek

12. Aşağıdakilerden hangisi dolaysız tüketimdir?

- A) Termik santralde elektrik üretmek üzere kömür kullanılması
- B) Ekmek üretimi için un kullanılması
- C) Hidro elektrik santralde su kullanılması
- D) Bir otobüste seyahat edilmesi
- E) Sanayide tekstil ürünleri üretmek üzere pamuk ve yünün kullanılması

13. Karşılanması ekonomik bir faaliyetin yapılmasını gerektiren ihtiyaçlara ne ad verilir?

- A) Zorunlu ihtiyaçlar
- B) Kültürel ihtiyaçlar
- C) Lüks ihtiyaçlar
- D) Ekonomik olmayan ihtiyaçlar
- E) Ekonomik ihtiyaçlar

14. Aşağıdaki GAP projesinin hangisi tamamen sulama amaçlıdır?

- A) Batman Projesi
- B) Adıyaman-Kahta Projesi
- C) Sıncar-Bazıklı Projesi
- D) Sınır Fırat Projesi
- E) Ilısu Projesi

15. Aşağıdakilerden hangisi doğanın üretim üzerine gösterdiği etkilerden biri değildir?

- A) Üretim sonucu olmayan değer artış olayları meydana getirir.
- B) Toprak ve toprakaltı zenginlikleri vasıtasıyla, tarım ve sanayi üretimini belirler.
- C) Üretim faaliyetlerinin şeklini, bir bölgede hangi tarımsal ürünlerin üretilip üretilmeyeceğini belirler.
- D) Yeryüzü şekilleri ve coğrafik yapı özellikleri aracılığıyla ekonomik faaliyetleri etkiler.
- E) İklim etkeniyle insanların isteğini olumlu veya olumsuz şekilde etkiler.

16. İhtiyaçlar arasında rekabet ve ikame imkanları tüketiciler için aşağıdaki faydalardan hangisini sağlar?

- A) Sağlıklı beslenme imkanı yaratır.
- B) Aynı ihtiyaca cevap veren malların fiyatları arasında orantılı bir denge sağlar.
- C) Gelir dağılımını iyileştirir.
- D) Bireylerin gelirlerini yükseltir.
- E) Kalkınma hızını yükseltir.

17. Üretimle ilgili aşağıdaki ifadelerden hangisi yanlıştır?

- A) Enerji, doğa üretiminin en önemli faktörlerinden biri değildir.
- B) Üretim kıt olan herhangi bir malın miktarını artırmaktır.
- C) Üretim ekonomik malların miktarını veya faydasını artırmaktır.
- D) Üretim değer meydana getirmektir.
- E) Üretim madde meydana getirmektir.

18. Aşağıdaki barajlardan hangisi Aşağı Fırat Projesi içinde yer alır?

- A) Karakamış Barajı
- B) Kralkızı ve Dicle Baraj ve Hidroelektrik Santrali
- C) Karakaya Barajı ve Hidroelektrik Santrali
- D) Birecik Fındıklı Barajı
- E) Cizre Barajı ve Hidroelektrik Santrali

19. Aşağıdakilerden hangisi, Türkiye'deki termik santrallerden biridir?

- A) Hazar
- B) Hirfanlı
- C) Kesikköprü
- D) Keban
- E) Tunçbilek

20. Aşağıdakilerden hangisi kuruluş yeri seçiminde göz önünde bulundurulacak faktörlerden biri değildir?

- A) Hammadde kaynaklarına yakınlık
- B) Enerji kaynaklarına yakınlık
- C) İklim
- D) Kullanılan üretim teknolojisi
- E) Su kaynaklarına yakınlık

2012 3D 0105-B

1. I. Stoma sayısı
II. Yaprak yüzeyi genişliği
III. Yapraklardaki damar sayısı

Bitkilerde gaz alış-verişi, yukarıdaki faktörlerden hangilerine bağlıdır?

- A) Yalnız I
- B) I ve II
- C) I ve III
- D) II ve III
- E) I, II ve III

2. Aşağıdakilerden hangisi solunum sistemlerindeki ortak özelliklerinden biridir?

- A) Enerji üretilmesi
- B) Karbondioksit taşınması
- C) Oksijen taşınması
- D) Dolaşım sıvısından azotlu atıkların uzaklaştırılması
- E) Canlının dış ve iç çevresi arasında gaz değişimine aracılık etmesi

3. Aşağıdaki canlıların hangisinde ürik asit, boşaltım ürünüdür?

- A) Sincapta
- B) Tavşanda
- C) Kuşta
- D) Balıkta
- E) Kurbağada

4. Aşağıdaki hayvanlardan hangisinin solunum organında temizlenen kan kalbe uğramadan vücuda dağılır?

- A) Kurbağa
- B) Balık
- C) Kuş
- D) Memeli
- E) Sürüngen

5. İnsan vücudu içerisindeki metabolik olaylar sonucu meydana gelen zehirli maddeleri ilk etapta etkisiz hale getiren ve vücuttan uzaklaştıran organ aşağıdakilerden hangisidir?

- A) Safra kesesi
- B) Kalp
- C) Mide
- D) Karaciğer
- E) Böbrek

6. I. Solungaç
II. Deri
III. Akciğer

Yukarıdaki oksijen alma, solunum şekillerini hayatının değişik evrelerinde yapabilen canlı aşağıdakilerden hangisidir?

- A) Balık
- B) Solucan
- C) Kurbağa
- D) Kaplumbağa
- E) Timsah

7. Hayvanlar aleminde bulunan aşağıdaki yapılardan hangisi boşaltım organı değildir?

- A) Nefridyum
- B) Malpighi tüpü
- C) Böbrek
- D) Trake boruları
- E) Alev hücreleri

8. Amonyanın daha çok üre ve ürik asite dönüştürülerek vücuttan uzaklaştırılması aşağıdakilerden hangisini önlemeye yönelik bir adaptasyondur?

- A) Su kaybını
- B) Besin kaybını
- C) Azot kaybını
- D) Tuz kaybını
- E) Kan kaybını

9. Hücre solunumu sonucu meydana gelen karbondioksit doku kılcallarına aşağıdakilerden hangisiyle geçer?

- A) Stoma
- B) Osmoz
- C) Anhidraz
- D) Bronş
- E) Difüzyon

10. İnsan dolaşım sistemi aşağıdakilerden hangisini gerçekleştirmez?

- A) Atık madde taşıma
- B) Sindirim enzimi taşıma
- C) Hormon taşıma
- D) Besin taşıma
- E) Oksijen taşıma

2012 3D 0105-B

11. Az su tüketimi sonucu idrarda fosfat ve oksalat gibi maddelerin yoğunlaşarak oluşturduğu yapıya ne ad verilir?

- A) Malpighi cisimciği
- B) Tümör
- C) Sistik asit
- D) Böbrek taşı
- E) Reflü

12. İnsanda soluk alma sırasında aşağıdaki değişimlerden hangisi gerçekleşir?

- A) Akciğer iç basıncının azalması
- B) Göğüs kafesinin daralması
- C) Diyafram kasının kubbeleşmesi
- D) Kaburga kaslarının gevşemesi
- E) Göğüs boşluğu hacminin azalması

13. Aşağıdakilerden hangisi solunum sistemi sağlığı için yapılması gerekenlerden biri değildir?

- A) Dengeli beslenmeye önem verilmeli
- B) Solunum yolu hastalıklarına karşı gelişigüzel ilaç kullanılmalı
- C) Düzenli spor yapmayı alışkanlık haline getirmeli
- D) Sigara içilmemeli, içilen ortamda bulunulmamalı
- E) Yaşanılan ortamın havası temiz olmalı

14. Aşağıdaki canlılardan hangisi en gelişmiş metanefroz böbreğe sahiptir?

- A) Ergin memeli
- B) Ergin kurbağa
- C) Ergin balık
- D) Kurbağa embriyosu
- E) Balık embriyosu

15. Aşağıdakilerden hangisi gırtlak kapağı yerine kullanılan kavramdır?

- A) Orofarinks
- B) Nazofarinks
- C) Epiglottis
- D) Sinüs
- E) Plöra

16. Aşağıdakilerden hangisi nefronun bölümlerinden biri değildir?

- A) Glomerulus
- B) Bowman kapsülü
- C) Malpighi cisimciği
- D) Üreter
- E) Henle kulbu

17. İskeleti kemikten yapılmış ergin bir omurgalının böbreğinde aşağıdakilerden hangisi bulunmaz?

- A) Bowman kapsülü
- B) Glomerulus
- C) Henle kulbu
- D) Havuzcuk
- E) Kirpikli huni

18. Organizmaların ve boşaltım sistemlerinin eşleştirmelerinde aşağıdakilerden hangisi yanlıştır?

- A) Memeli-Nefron
- B) Çekirge-Malpighi kanalları
- C) Planarya-Alev hücreleri
- D) Sürüngen-Kontraktil koful
- E) Yer solucanı-Nefridyum

19. Kan basıncına bağlı olarak glomerulus içindeki kanın plazma kısmının Bowman kapsülü boşluğuna geçmesiyle oluşan olaya ne ad verilir?

- A) Süzülme
- B) Geri emilim
- C) Nefrit
- D) Boşaltım
- E) Toplama

20. İnsanın soluk alması sırasında aşağıdaki olaylardan hangisi gerçekleşir?

- A) Göğüs kaslarının gevşemesi
- B) Karbondioksitin dışarı verilmesi
- C) Göğüs boşluğunun genişlemesi
- D) Diyafram kasının kubbeleşmesi
- E) Akciğer iç basıncının artması

ÇAĞDAŞ TÜRK VE DÜNYA TARİHİ 2

B

2012 3D 0105-B

1. Yumuşama Dönemi ile ilgili aşağıdaki ifadelerden hangisi yanlıştır?

- A) Yumuşama politikasının ortaya çıkmasında başlıca etken, nükleer silahlardan konvansiyonel silahlara geçilmesidir.
- B) Blokların, uluslararası ilişkilerde gerginliği azaltmak için karşılıklı görüşmeleri tercih ettiği bir dönemdir.
- C) Bu dönemde izlenen politikalarla, doğu-batı ilişkilerinde çatışma ve gerginlik nispeten azalmıştır.
- D) Yumuşama politikası, barışa varacak yakınlaşma, anlaşma ve işbirliği aşamalarından oluşmaktadır.
- E) Yumuşama süreci, 1961 yılında ABD ve SSCB başkanlarının bir araya gelmesiyle başlamıştır.

2. SSCB'nin dağılmasından sonra Nursultan Nazarbayev önderliğinde bağımsızlığını ilan eden, büyük petrol, uranyum, demir, altın ve kurşun rezervlerine sahip olan ve Semey nükleer deneme alanını kapatarak dünya tarihinde ilk defa gönüllü olarak kendi nükleer silah deposundan vazgeçen ülke aşağıdakilerden hangisidir?

- A) Türkmenistan
- B) Kazakistan
- C) Gürcistan
- D) Özbekistan
- E) Azerbaycan

3. İran-İrak Savaşı hangi tarihler arasında olmuştur?

- A) 1968-1976
- B) 1977-1979
- C) 1980-1988
- D) 1990-1992
- E) 1994-1998

4. Aşağıdakilerden hangisi, 1974 yılında Helsinki'de yapılan Avrupa Güvenlik ve İşbirliği Konferansı'na (AGİK) katılmamıştır?

- A) Kanada
- B) ABD
- C) Fransa
- D) İngiltere
- E) Amavutluk

5. Vietnam Savaşı hangi yıl başlamıştır?

- A) 1960
- B) 1962
- C) 1965
- D) 1969
- E) 1972

6. Pakistan ile Hindistan arasında 1948 yılından günümüze kadar çözümlenemeyen bir sorun olan bölge aşağıdakilerden hangisidir?

- A) Tayland
- B) Tibet
- C) Bangladeş
- D) Keşmir
- E) Nepal

7. Bağımsızlığına yeni kavuşan Asya ve Afrika ülkelerinin ABD ve SSCB gibi iki büyük nükleer güç karşısında varlıklarını korumak için birlik ve dayanışmalarını sağlamak amacıyla 1955 yılında yapılan konferans aşağıdakilerden hangisidir?

- A) Kahire konferansı
- B) Bandung Konferansı
- C) Paris Konferansı
- D) Helsinki Konferansı
- E) Londra Konferansı

8. 1982 Anayasası'nın en belirgin özelliği aşağıdakilerden hangisidir?

- A) Toplumsal yaşamda bireye ağırlık vermesi
- B) Temel hak ve özgürlükleri güvenceli bir statüye oturtması
- C) Devlet yönetiminde bireye ağırlık vermesi
- D) Hak ve özgürlükler açısından, bireye değil devlete ağırlık vermesi
- E) Klasik hak ve özgürlüklerle birlikte sosyal ve ekonomik haklara da yer vermesi

9. Aşağıdakilerden hangisi, 27 Mayıs 1960 askeri müdahalesinin nedenlerinden biri değildir?

- A) Dış ülkelerle olan siyasi ilişkilerin gerginleşmesi
- B) Siyasi yaşamda hoşgörü eksikliklerinin olması
- C) Ekonomik şartların siyasi ortamı gerginleştirmesi
- D) Ekonomide enflasyonist baskının artması
- E) Türkiye'de demokrasinin tam yerleşmemiş olması

B

2012 3D 0105-B

10. Aşağıdakilerden hangisi, Camp David Anlaşmaları'nda alınan kararlardan biri değildir?

- A) Gazze ve Batı Şeria'da yaşayan Filistinlilere beş yıllık süre için muhtariyet verilmesi
- B) Filistin halkının meşru haklarının ve adil isteklerinin tanınmasını sağlayacak bir anlaşma yapılması
- C) Muhtariyet döneminde İsrail'in güvenliğini sağlayacak düzenlemeler yapılması
- D) İsrail ve Ürdün arasında barış müzakereleri yapılması
- E) Muhtariyet döneminde İsrail'in, Gazze ve Batı Şeria'daki asker sayısını artırması

11. Basmacılık adı verilen bağımsızlık mücadelesinin başarısız olmasıyla SSCB'ye bağlanan, SSCB'nin dağılmasıyla bağımsızlığını ilan eden ve bağımsızlığından günümüze kadar başkanlığını İslam Kerimov'un yaptığı devlet aşağıdakilerden hangisidir?

- A) Kırgızistan
- B) Tacikistan
- C) Türkmenistan
- D) Özbekistan
- E) Kazakistan

12. Berlin Duvarı'nın yıkılarak iki Almanya'nın resmen birleştiği yıl aşağıdakilerden hangisidir?

- A) 1988
- B) 1989
- C) 1990
- D) 1991
- E) 1992

13. Türkiye'de 1980 sonrası yapılan ilk milletvekili genel seçimlerini hangi parti kazanmıştır?

- A) ANAP
- B) DYP
- C) SHP
- D) CHP
- E) MHP

14. Aşağıdakilerden hangisi, Türk ekonomisinde bir dönüm noktası olarak nitelendirilen 24 Ocak Kararları'nın amaçlarından biri değildir?

- A) Enflasyonu düşürmek
- B) Ödemeler dengesini düzeltmek
- C) İhracata yönelik üretimi teşvik etmek
- D) Serbest piyasa ekonomisine geçmek
- E) Özel sektöre verilen kredilerin faizini yükseltmek

15. Aşağıdakilerden hangisi küreselleşmenin dünya üzerindeki ekonomik etkilerinden biri değildir?

- A) Ülkelerin önemli bir kısmının ekonomik yönden bütünleşmeye başlaması
- B) Özelleştirmelerin artması
- C) Çok uluslu şirketlerin yaygınlaşması
- D) Devletlerin ekonomideki ağırlığının artması
- E) Uluslararası ticaretin artması

16. Kazakistan'ı ilk tanıyan devlet aşağıdakilerden hangisidir?

- A) Türkiye
- B) İngiltere
- C) Çek Cumhuriyeti
- D) ABD
- E) Azerbaycan

17. Aşağıdakilerden hangisi Türk Ordusu'nun, TBMM kararları çerçevesinde barışı koruma ve uygulama harekâtlarına barış gücü olarak katıldığı ülkelerden biri değildir?

- A) Amavutluk
- B) Kuveyt
- C) Bosna-Hersek
- D) Afganistan
- E) Somali

18. Türkiye ile AB arasındaki Gümrük Birliği hangi yıl yürürlüğe girmiştir?

- A) 1992
- B) 1994
- C) 1996
- D) 1998
- E) 2000

19. Ürdün, Suriye ve İsrail arasında, aşağıdaki nehirlerden hangisinin suyunun kullanımı konusunda ciddi sorunlar ortaya çıkmıştır?

- A) Fırat Nehri
- B) Nil Nehri
- C) Dicle Nehri
- D) Asi Nehri
- E) Şeria Nehri

20. Türkiye'de ilk renkli televizyon yayını hangi yıl başlamıştır?

- A) 1982
- B) 1984
- C) 1986
- D) 1988
- E) 1990

SEÇMELİ COĞRAFYA 3

B

2012 3D 0105-B

1. Aşağıdakilerden hangisi dış püskürük kayalardan biridir?

- A) Gnaysa
- B) Jips
- C) Kömür
- D) Kaya tuzu
- E) Bazalt

2. Ürgüp-Göreme çevresindeki peribacalarının oluşumunda aşağıdaki kayalardan hangisi etkili olmuştur?

- A) Kalker
- B) Kömür
- C) Tuf
- D) Granit
- E) Obsidiyen

3. Aşağıdaki ülkelerin hangisinde deprem olma sıklığı daha fazladır?

- A) Japonya
- B) Kanada
- C) Libya
- D) İngiltere
- E) Fransa

4. İki okyanussal kıtanın birbirine yaklaştığı yerlerde aşağıdakilerden hangisi oluşmaktadır?

- A) Kıta kabuğu
- B) Volkanik ada yayları
- C) Yanardağ
- D) Ovalar
- E) Sıra dağlar

5. Aşağıdakilerden hangisi doğum oranlarının yüksek olduğu ülkelerin özelliklerinden biri değildir?

- A) Bağımlı nüfus oranının fazla olması
- B) Kaynaklarının büyük kısmını eğitim faaliyetlerine ayırması
- C) Çocuk ve genç nüfus oranının fazla olması
- D) Az gelişmiş veya ekonomik kalkınmasını henüz tamamlamamış ülkelerde görülmesi
- E) Gelişmiş ülkelerde görülmesi

6. Oluşumunu tamamlamış bir toprak kesitinde, yüzeyden derine doğru birbirinden farklı özellikler gösteren katlara ne ad verilir?

- A) Kalker
- B) Tuf
- C) Gayzer
- D) Horizon
- E) Azonal

7. Aşağıdakilerden hangisi tortul kayaların en önemli özelliklerinden biridir?

- A) Yer kabuğunun farklı derinliklerindeki taş ve tabakaların aralarına sokularak, yavaş yavaş soğuması
- B) Volkanik faaliyetler sonucu yeryüzüne çıkması
- C) Oluştukları dönemlere ait bitki ve hayvan kalıntılarına sahip olmaları
- D) Kimyasal ve fiziksel ayrışmaya uğramaları
- E) Başkalaşıma uğrayarak değişik kayalara dönüşmesi

8. Bazalt, Andezit, Granit gibi kayaların yaygın olarak bulunduğu bir ülke için aşağıdakilerden hangisi kesin olarak söylenebilir?

- A) Eski bir kara parçasıdır.
- B) Volkanizma olayı çok olmuştur.
- C) Yeryüzü şekilleri aşınma düzlüklerinden oluşur.
- D) Petrol yatakları zengindir.
- E) Buzullaşmanın yaygın olduğu bir ülkedir.

9. Aşağıdakilerden hangisi kimyasal tortullardan biridir?

- A) Traverten
- B) Kum taşı
- C) Mermer
- D) Granit
- E) Gabro

10. Kayaların sadece çatlaması, parçalanması ve ufalanması şeklinde görülen ayrışma aşağıdakilerden hangisidir?

- A) Kimyasal ayrışma
- B) Karstik ayrışma
- C) Organik ayrışma
- D) Volkanizma
- E) Fiziksel ayrışma

B

2012 3D 0105-B

11. Karaları meydana getiren ve aynı zamanda okyanusların altında devam eden yerkabuğu bütün değil parçalar halindedir.

Bu parçalardan her birine ne ad verilir?

- A) Kara
- B) Magma
- C) Lav
- D) Levha
- E) Kıta

12. Amerika Kıtası ile Avrupa arasında yer alan okyanusun adı nedir?

- A) Bengal Denizi
- B) Atlas Okyanusu
- C) Umman Denizi
- D) Büyük Okyanus
- E) Hint Okyanusu

13. Aşağıdakilerin hangisinde nüfus miktarı daha fazladır?

- A) Romanya
- B) Kanada
- C) Çin
- D) Brezilya
- E) Hollanda

14. Yerkabuğunun yaşlı kıvrım bölgelerinde depremler nadir görülür ve etkileri de önemsizdir.

Aşağıdaki bölgelerden hangisi buna örnek olarak gösterilebilir?

- A) Kanada
- B) Yunanistan
- C) Türkiye
- D) Japonya
- E) İtalya

15. Neolitik çağda insanların geçim tarzlarında nasıl bir değişme olmuştur?

- A) Devletler arası ticaret gelişmiştir.
- B) Avcılık ve toplayıcılık başlamıştır.
- C) Sanayi devrimine geçilmiştir.
- D) Tarım başlamıştır.
- E) Madencilik gelişmiştir.

16. Aşağıdakilerden hangisi nüfus dağılışıında etkili olan doğal etmenlerden biri değildir?

- A) Bitki örtüsü
- B) İklim
- C) Toprak verimliliği
- D) Yerşekilleri
- E) Sanayi

17. İlk insanların barınaklarının mağara, kaya sığınaklarının olduğu, geçimlerini avcılık yaparak sağladıkları, küçük gruplar halinde ve göçebe olarak yaşadıkları dönem aşağıdakilerden hangisidir?

- A) Mezolitik çağ
- B) Paleolitik çağ
- C) Kalkolitik çağ
- D) Demir çağı
- E) Neolitik çağ

18. Beyin göçünün göç veren ülke için en önemli sonucu aşağıdakilerden hangisidir?

- A) Ülke kalkınmasına faydası
- B) İşsizliğin artması
- C) Ülkenin, eğitim görmüş insanlarını kaybetmesi
- D) Ülkede sağlık sorunlarının yaşanması
- E) Ülkeye döviz gimesi

19. Aşağıdakilerden hangisi hızlı ve çarpık kentleşmenin nedenlerinden biridir?

- A) Fabrikaların kent merkezi içinde kalması
- B) Konut yetersizliği
- C) Alt yapı yetersizliği
- D) Köyden kente göç
- E) Çevre kirliliği

20. 1960'lı yıllardan sonra ülkemizden Batı Avrupa'ya yapılan göçlerin nedeni aşağıdakilerden hangisidir?

- A) İşçi ihtiyacı
- B) Savaşlar
- C) Nüfus artışı
- D) Erozyon
- E) Mübadele

SEÇMELİ ALMANCA 4

B

2012 3D 0105-B

Bu testin cevaplarını, cevap anahtarında SEÇMELİ YABANCI DİL 4 sütununa işaretleyiniz.

1. Meine Mutter sagt jeden Tag, daß ich früh aufstehen soll! Sie sagt. "....."

Welches ergänzt die obige Lücke?

Yukarıda boş bırakılan yeri aşağıdakilerden hangisi doğru olarak tamamlar?

- A) Stehen früh auf!
- B) Stehst früh auf!
- C) Steh früh auf!
- D) Steht früh auf!
- E) Stehte früh auf!

2. Ich hätte gern ein neues Haus.

Wie lautet die Frage für die obige Antwort?

Verilen cümleye yönelik soru cümlesi aşağıdakilerden hangisidir?

- A) Was machst du da?
- B) Wer hat dir das gesagt?
- C) Was hast du gemacht?
- D) Was hättest du gern?
- E) Warum kommst du nicht mit?

3. Kinder früh schlafen.

Welches Wort paßt nicht in die obige Lücke?

Cümlede boş bırakılan yeri aşağıdakilerden hangisi doğru şekilde tamamlamaz?

- A) haben
- B) müssen
- C) sollen
- D) sollten
- E) müßten

4. Ich lerne deutsch,

Welches ergänzt nicht den obigen Satz?

Verilen cümleyi aşağıdakilerden hangisi doğru olarak tamamlamaz?

- A) damit ich zum Kurs gehen wollte.
- B) weil ich in Deutschland Urlaub machen will.
- C) um die deutschen Fachbücher im Originalen lesen zu können.
- D) weil ich in der Firma Karriere machen will.
- E) damit ich deutsche Literaturwerke lesen kann.

5. Die Touristen machen Urlaub am Meer. (viel)

Welches Wort paßt in die obige Lücke?

Cümlede boş bırakılan yeri aşağıdakilerden hangisi doğru şekilde tamamlar?

- A) mehrsten
- B) viele
- C) meisten
- D) vielen
- E) vielsten

6., weil er erst 16 Jahre alt ist.

Welches ergänzt die Lücke im obigen Satz?

Verilen cümleyi aşağıdakilerden hangisi tamamlar?

- A) Sie kümmert sich immer um Kranke
- B) In jeder Stadt befindet sich ein Info-Büro
- C) Ahmet darf nicht Auto fahren
- D) Wir können uns ein Haus kaufen
- E) Die Polizei will den Täter herausfinden

B

2012 3D 0105-B

7. Meine Mutter kocht jeden Tag, das bedeutet sie kocht

Welches Wort paßt in die obige Lücke?

Cümlede boş bırakılan yeri aşağıdakilerden hangisi doğru şekilde tamamlar?

- A) immer
- B) niemals
- C) selten
- D) manchmal
- E) nachts

8. er mich anrief, machte ich meine Hausaufgaben.

Welches Wort paßt in die obige Lücke?

Cümlede boş bırakılan yeri aşağıdakilerden hangisi doğru şekilde tamamlar?

- A) Damit
- B) Falls
- C) Weil
- D) Als
- E) Wenn

9. Alle Kinder freuen sich, die Eltern mit ihnen spielen.

Welches Wort paßt in die obige Lücke?

Cümlede boş bırakılan yeri aşağıdakilerden hangisi doğru şekilde tamamlar?

- A) wenn
- B) wie
- C) die
- D) was
- E) denn

10. Der Tisch ist neu. Tisch kostet viel.

Welches Wort paßt in die obige Lücke?

Cümlede boş bırakılan yeri aşağıdakilerden hangisi doğru şekilde tamamlar?

- A) Das neue
- B) Der neue
- C) Der neuer
- D) Die neurer
- E) Die neuste

11. Saat sekizde büroda olmam gerekir.

Wie lautet der obige Satz auf deutsch?

Verilen cümlelerin Almancası aşağıdakilerden hangisidir?

- A) Ich soll um 08.00 Uhr das Büro verlassen.
- B) Ich muß um 08.00 Uhr im Büro sein.
- C) Ich will jeden morgen um 08.00 Uhr ins Büro.
- D) Ich darf morgens um 08.00 Uhr ins Büro gehen.
- E) Ich kann um 08.00 Uhr im Büro sein.

12. Er hat sich ein neues Auto gekauft. Ich habe es gesehen.

Wie kann man die obigen Sätze mit "daß" verbinden?

Verilen cümlelerin "daß" ile birleştirilmiş hali aşağıdakilerden hangisidir?

- A) Ich hatte gesehen, daß er sich ein neues Auto kaufen wollte.
- B) Ich habe mir ein neues Auto gekauft, daß stimmt.
- C) Daß er sich ein neues Auto kauft stimmt, weil ich es gesehen habe.
- D) Ich habe gesehen, daß er sich ein neues Auto gekauft hat.
- E) Daß er sich ein neues Auto kaufen will, habe ich gesehen.

13. Sie noch schneller zu rennen, wenn sie den Bus erreichen will.

Welches Wort paßt in die obige Lücke?

Cümlede boş bırakılan yeri aşağıdakilerden hangisi doğru olarak tamamlar?

- A) müßt
- B) sollt
- C) hätte
- D) habest
- E) hat

2012 3D 0105-B

14. Soll er seine Hausaufgaben heute machen?

Welche Antwort paßt zur obigen Frage?

Verilen sorunun cevabı aşağıdakilerden hangisidir?

- A) Ja, er braucht immer Hilfe, um diese zu machen.
- B) Nein, er hat es machen wollen.
- C) Ja, er hat seine Hausaufgaben gestern gemacht.
- D) Nein, er braucht keine Hilfe, um die Hausaufgaben zu machen.
- E) Nein, er braucht sie heute nicht zu machen.

15. Ich bin völlig außer Atem.

Wie lautet der obige Satz auf türkisch?

Verilen cümlelerin Türkçesi aşağıdakilerden hangisidir?

- A) Nefes alamıyorum.
- B) Nefes nefese geldim.
- C) Nefesimi tuttum.
- D) Nefes nefese kaldım.
- E) Nefesim tıklandı.

16. Was für ein nett..... Junge.

Welche Endung paßt in die obige Lücke?

Cümlede boş bırakılan yeri aşağıdakilerden hangisi doğru olarak tamamlar?

- A) -es
- B) -e
- C) -er
- D) -est
- E) -este

17. Dem Kaufmann nicht vertrauen.

Wie lautet der obige Satz in der Imperativ-Form?

Verilen cümlelerin emir cümle şekli aşağıdakilerden hangisidir?

- A) Vertraust dem Kaufmann nicht!
- B) Vertraue dem Kaufmann nicht!!
- C) Vertrauen dem Kaufmann!
- D) Du darfst dem Kaufmann nicht vertrauen!
- E) Vertraue nur dem Kaufmann!

18. In diesem Einkaufszentrum kann man Schuhe finden.

Welches Wort paßt in die obige Lücke?

Cümlede boş bırakılan yeri aşağıdakilerden hangisi doğru şekilde tamamlar?

- A) der teure
- B) das teure
- C) der teurere
- D) die teuerste
- E) die teuersten

19. Ich muss meinem Vater, ich ein neues Auto brauche.

Welche Wörter passen in die obigen Lücken?

Cümlede boş bırakılan yerleri aşağıdakilerden hangileri doğru şekilde tamamlar?

- A) sagen / hätte
- B) erklären / daß
- C) sagte / hatten
- D) erklärt / sonst
- E) erkläre / noch

20. du Kinderarzt werden willst, mußt du studieren.

Welches Wort paßt in die obige Lücke?

Cümlede boş bırakılan yeri aşağıdakilerden hangisi doğru şekilde tamamlar?

- A) Warum
- B) Weshalb
- C) Denn
- D) Damit
- E) Wenn

SEÇMELİ FRANSIZCA 4

B

2012 3D 0105-B

Bu testin cevaplarını, cevap anahtarında SEÇMELİ YABANCI DİL 4 sütununa işaretleyiniz.

1. Ali a 25 livres, Hakan a 42 livres. Ali a de livres que Hakan.

Choisissez le mot qui convient.

Cümledeki boşluğu aşağıdakilerden hangisi doğru şekilde tamamlar?

- A) mieux
- B) plus
- C) moins
- D) autant
- E) aussi

2. Quand vous sortirez, vous la porte.

Choisissez le mot qui convient.

Cümledeki boşluğu aşağıdakilerden hangisi doğru şekilde tamamlar?

- A) avez fermé
- B) fermeriez
- C) fermeront
- D) fermerez
- E) aviez fermé

3. Quand elle habitait à Paris, elle dans un magasin.

Choisissez le mot qui convient.

Cümledeki boşluğu aşağıdakilerden hangisi doğru şekilde tamamlar?

- A) travaillait
- B) travaillant
- C) travaillera
- D) travaillé
- E) travaille

4. Mireille: -
Jacques: - Oui, c'est la mienne.

Choisissez la question qui convient.

Yukarıdaki konuşmada cevabı gerektiren soru aşağıdakilerden hangisidir?

- A) Est-ce que cette clé est à toi?
- B) Est-ce que ce manteau est à lui?
- C) Est-ce que cette chemise est à Pierre?
- D) Est-ce que ces chats sont à ton fils?
- E) Est-ce que ce poste de télévision est à vous?

5. C'est la plus belle maison de la ville.

Choisissez la traduction qui convient.

Yukarıdaki cümlelerin Türkçe karşılığı aşağıdakilerden hangisidir?

- A) Bu ev, şehrin en güzel yerindedir.
- B) Bu şehirde evler çok güzeldir.
- C) Şehrin en güzel evi budur.
- D) Bu evler, şehri çok güzelleştirmektedir.
- E) Bu şehirdeki evlerin hepsi çok güzeldir.

6. Ce sont leurs calculatrices; ce sont

Choisissez le mot qui convient.

Cümledeki boşluğu aşağıdakilerden hangisi doğru şekilde tamamlar?

- A) la vôtre
- B) la leur
- C) les leurs
- D) les siennes
- E) les tiennes

7. Nicolas écoute le professeur.

Choisissez le mot qui convient.

Cümledeki boşluğu aşağıdakilerden hangisi doğru şekilde tamamlar?

- A) attentivement
- B) violemment
- C) couramment
- D) rapidement
- E) légèrement

B

2012 3D 0105-B

8. Il ne prend rien; il manger.

Choisissez le mot qui convient.

Cümledeki boşluğu aşağıdakilerden hangisi doğru şekilde tamamlar?

- A) veut
- B) est
- C) vient
- D) vient de
- E) vais

9. Ahmet: -

Ömer: - Non, ce ne sont pas ceux de mon frère.

Choisissez la question qui convient.

Yukarıdaki konuşmada cevabı gerektiren soru aşağıdakilerden hangisidir?

- A) Ce sont les livres de ton frère?
- B) Qu'est-ce que c'est?
- C) Ceux-ci ou ceux-là?
- D) Ce sont les chemises de son frère?
- E) Ces chaises sont libres?

10. Avec cette somme d'argent, elle aurait pu une galerie de peinture à Paris.

Choisissez le mot qui convient.

Cümledeki boşluğu aşağıdakilerden hangisi doğru şekilde tamamlar?

- A) cacher
- B) ouvrir
- C) bouger
- D) vêtir
- E) promettre

11. Bir kahve alır mıydınız?

Choisissez la traduction qui convient.

Yukarıdaki cümlelerin Fransızca karşılığı aşağıdakilerden hangisidir?

- A) Vous prenez le café, comme boisson?
- B) Prendriez-vous un café?
- C) Qu'est-ce que vous prenez?
- D) Vous préférez le café?
- E) Veux-tu boire un café?

12. Si j'avais beaucoup d'argent, je(j') plus heureux.

Choisissez le mot qui convient.

Cümledeki boşluğu aşağıdakilerden hangisi doğru şekilde tamamlar?

- A) ai été
- B) suis
- C) vais être
- D) serais
- E) étais

13. J'ai vu quelqu'un dans le salon.

Choisissez l'antonyme du mot souligné.

Yukarıdaki cümlede altı çizili sözcüğün zıt anlamlısı aşağıdakilerden hangisidir?

- A) justement
- B) rien
- C) quelque chose
- D) instant
- E) personne

14. Regardez ces livres; beaux livres.

Choisissez le mot qui convient.

Cümledeki boşluğu aşağıdakilerden hangisi doğru şekilde tamamlar?

- A) quelle
- B) que
- C) quel
- D) quelles
- E) quels

15., les élèves iront à l'école.

Choisissez le mot qui convient.

Cümledeki boşluğu aşağıdakilerden hangisi doğru şekilde tamamlar?

- A) La semaine dernière
- B) La veille
- C) Hier
- D) Demain
- E) Avant-hier

2012 3D 0105-B

16. La valeur du tableau été plus élevée.

Choisissez le mot qui convient.

Cümledeki boşluğu aşağıdakilerden hangisi doğru şekilde tamamlar?

- A) était
- B) sera
- C) aurait
- D) as
- E) est

17. Ma cravate est en lain, de mon ami est en cuir.

Choisissez le mot qui convient.

Cümledeki boşluğu aşağıdakilerden hangisi doğru şekilde tamamlar?

- A) c'est
- B) celle
- C) ceux
- D) ce
- E) celui

18. Ce garçon est très méchant, il est intelligent.

Choisissez le mot qui convient.

Cümledeki boşluğu aşağıdakilerden hangisi doğru şekilde tamamlar?

- A) assez
- B) malgré
- C) contrairement à
- D) inconnu
- E) mais

19. Dans quelques minutes, nous terminer ce travail.

Choisissez le mot qui convient.

Cümledeki boşluğu aşağıdakilerden hangisi doğru şekilde tamamlar?

- A) voudrez
- B) allons
- C) pouvez
- D) sommes
- E) avons

20. Mon père aime aller au cinéma contrairement à mon oncle.

Choisissez la traduction qui convient.

Yukarıdaki cümlelerin Türkçe karşılığı aşağıdakilerden hangisidir?

- A) Babam sinemaya gitmeyi seviyor, fakat amcam sevmiyor.
- B) Amcam da babam da sinemaya gitmeyi seviyorlar.
- C) Amcam rağmen babam sinemaya gitmek istiyor.
- D) Amcam gibi babam da sinemaya gitmeyi seviyor.
- E) Amcamın tersine, babam sinemaya gitmeyi seviyor.

SEÇMELİ İNGİLİZCE 4

B

2012 3D 0105-B

Bu testin cevaplarını, cevap anahtarında SEÇMELİ YABANCI DİL 4 sütununa işaretleyiniz.

1. If I you, I would wear my raincoat.

Which of the following completes the sentence above?

Aşağıdakilerden hangisi yukarıdaki cümleyi doğru olarak tamamlar?

- A) could
- B) could have been
- C) were
- D) can
- E) must be

2. Carol bought an expensive shirt. That was a mistake. She wishes she an expensive shirt.

Which of the following completes the sentence above?

Aşağıdakilerden hangisi yukarıdaki cümleyi doğru olarak tamamlar?

- A) don't buy
- B) couldn't buy
- C) didn't buy
- D) hadn't bought
- E) haven't bought

3. A: Can you speak Russian?
B: No I can't, but I wish I speak Russian.

Which of the following completes the dialogue above?

Aşağıdakilerden hangisi yukarıdaki konuşmayı doğru olarak tamamlar?

- A) could
- B) can
- C) must
- D) might
- E) will

4. I missed the train yesterday. I wish I the train.

Which of the following completes the sentence above?

Aşağıdakilerden hangisi yukarıdaki cümleyi doğru olarak tamamlar?

- A) hadn't missed
- B) don't miss
- C) didn't miss
- D) haven't missed
- E) can't miss

5. If Esra had had some money, she a new briefcase.

Which of the following completes the sentence above?

Aşağıdakilerden hangisi yukarıdaki cümleyi doğru olarak tamamlar?

- A) could buy
- B) would buy
- C) would have bought
- D) must have bought
- E) must buy

6. If I enough time, I will visit my uncle.

Which of the following completes the sentence above?

Aşağıdakilerden hangisi yukarıdaki cümleyi doğru olarak tamamlar?

- A) have had
- B) am having
- C) have
- D) will have
- E) had

7. The State should support the private enterprise.

Which of the following is the Turkish translation of the sentence above?

Aşağıdakilerden hangisi yukarıdaki cümlelerin Türkçe karşılığıdır?

- A) Devlet, özel sektöre destek vermelidir.
- B) Devletçilik ilkesi özel sektöre karşı çıkar.
- C) Özel sektör, devleti destekler.
- D) Ekonomik kalkınmanın gerçekleşmesi için özel sektörün gelişmesi gerekir.
- E) Devlet özel sektörü desteklememelidir.

B

2012 3D 0105-B

8. I don't have a computer, but I need one. I wish I a computer.

Which of the following completes the sentence above?

Aşağıdakilerden hangisi yukarıdaki cümleyi doğru olarak tamamlar?

- A) have
- B) had had
- C) has
- D) had
- E) could have

9. I would have.....Uludağ if I had been to Bursa.

Which of the following completes the sentence above?

Aşağıdakilerden hangisi yukarıdaki cümleyi doğru olarak tamamlar?

- A) visited
- B) will visit
- C) visit
- D) visits
- E) visiting

10. If I had time, I go to the cinema.

Which of the following completes the sentence above?

Aşağıdakilerden hangisi yukarıdaki cümleyi doğru olarak tamamlar?

- A) should
- B) would
- C) can
- D) must
- E) will

11. If you , you can see her.

Which of the following completes the sentence above?

Aşağıdakilerden hangisi yukarıdaki cümleyi doğru olarak tamamlar?

- A) waited
- B) wait
- C) could wait
- D) have waited
- E) would wait

12. If Jack has a lot of money, he a new car.

Which of the following completes the sentence above?

Aşağıdakilerden hangisi yukarıdaki cümleyi doğru olarak tamamlar?

- A) bought
- B) buy
- C) has bought
- D) will buy
- E) would buy

13. Türk Devleti toprağı ve halkı ile bölünmez bir bütündür.

Which of the following is the English translation of the sentence above?

Aşağıdakilerden hangisi yukarıdaki cümlemin İngilizce karşılığıdır?

- A) It is only the republican regime which can best represent the wishes of people.
- B) The modernization of Turkey is dependent on economic and technological development.
- C) Through reformism, Turkey can reach level of contemporary civilization.
- D) The state should support the private enterprise
- E) The Turkish State is an indivisible whole comprising its territory and people.

14. If he pass his exams, he won't get a good job.

Which of the following completes the sentence above?

Aşağıdakilerden hangisi yukarıdaki cümleyi doğru olarak tamamlar?

- A) wouldn't
- B) hasn't
- C) didn't
- D) won't
- E) doesn't

2012 3D 0105-B

15. I have to go to school tomorrow. I wish I to school tomorrow.

Which of the following completes the sentence above?

Aşağıdakilerden hangisi yukarıdaki cümleyi doğru olarak tamamlar?

- A) have gone
- B) must go
- C) don't have to go
- D) didn't have to go
- E) should go

16. I live in Erzurum. I wish I in Antalya.

Which of the following completes the sentence above?

Aşağıdakilerden hangisi yukarıdaki cümleyi doğru olarak tamamlar?

- A) have lived
- B) had lived
- C) lived
- D) living
- E) live

17. If I go to Kastamonu, I him.

Which of the following completes the sentence above?

Aşağıdakilerden hangisi yukarıdaki cümleyi doğru olarak tamamlar?

- A) contacted
- B) will contact
- C) would contact
- D) should have contacted
- E) have contacted

18. If the final cancelled, what would've happened?

Which of the following completes the sentence above?

Aşağıdakilerden hangisi yukarıdaki cümleyi doğru olarak tamamlar?

- A) had
- B) is
- C) will be
- D) has
- E) had been

19. If it , I will wear my raincoat.

Which of the following completes the sentence above?

Aşağıdakilerden hangisi yukarıdaki cümleyi doğru olarak tamamlar?

- A) raining
- B) rains
- C) will rain
- D) rained
- E) has rained

20. I wish I in İstanbul now.

Which of the following completes the sentence above?

Aşağıdakilerden hangisi yukarıdaki cümleyi doğru olarak tamamlar?

- A) can be
- B) should be
- C) am
- D) must be
- E) were

2012 3D 0105-B

1. I. Biyolojik etmenler
II. Kimyasal etmenler
III. Fiziksel etmenler
IV. Psikolojik etmenler

Yukarıdakilerden hangileri insan sağlığını etkileyen çevresel etmenlerden biridir?

- A) I ve II
- B) II ve IV
- C) I, II ve III
- D) II, III ve IV
- E) I, II, III ve IV

2. Dişlerin iyi temizlenmemesi sonucu, bakterilerin diş yüzeyindeki besinlerden yapışkan bir madde üreterek dişe yapışması sonucu oluşturdukları tabakaya ne ad verilir?

- A) Diş minesini
- B) Diş apsesi
- C) Diş iltihabı
- D) Diş plağı
- E) Diş çürüğü

3. Ayakta nasır oluşumun en önemli nedeni aşağıdakilerden hangisidir?

- A) Uygun ayakkabı seçiminin yapılmaması
- B) Ayakların her akşam yıkanmaması
- C) Her gün çorapların değiştirilmesi
- D) Giyilen çorapların pamuklu olmaması
- E) Ayakkabıların topuksuz ve ucunun geniş ve yuvarlak olması

4. Aşağıdakilerden hangisi sosyal iyilik halini oluşturan koşullardan biri değildir?

- A) İş arkadaşları ile olumlu ilişkiler kurabilmesi
- B) Kişinin güçlüklerle direnebilmesi
- C) Meslek edinerek ekonomik kazanç elde edebilmesi
- D) Ailesi ile olumlu ve yapıcı ilişkiler kurabilmesi
- E) Yaşam koşullarının yeterli olması

5. Ayak sağlığı ile ilgili aşağıdaki ifadelerden hangisi yanlıştır?

- A) Ayak yapısına uygun olmayan ayakkabılar kan dolaşımı yetersizliğine neden olur.
- B) Ayaklar uygun aralıklarla ılık suda bekletilmelidir.
- C) Başkalarının terlik, çorap ve ayakkabıları giyilmemelidir.
- D) Ucu sivri ve topuklu ayakkabılar tercih edilmemelidir.
- E) Ayaklar yıkandıktan sonra, el ve yüz havlusu ile iyice kurulmalıdır.

6. Aşağıdakilerden hangisi birinci basamaktaki sağlık görevlilerinden biri değildir?

- A) Hemşire
- B) Doktor
- C) Fizyoterapist
- D) Sağlık memuru
- E) Ebe

7. İnsanlarda dengesiz ve düzensiz beslenme alışkanlıklarına bağlı olarak hastalıkların ortaya çıkması aşağıdaki sağlığa etki eden etmenlerden hangisinin kapsamında yer alır?

- A) Bünyesel etmenler
- B) Kimyasal etmenler
- C) Fiziksel etmenler
- D) Psikolojik etmenler
- E) Biyolojik etmenler

8. Hastanın rahatsızlığının uzman doktorlar tarafından teşhis ve tedavi edilmesi için yataklı sağlık kuruluşunda verilen hizmetlere ne ad verilir?

- A) İkinci basamak tedavi hizmeti
- B) Birinci basamak tedavi hizmeti
- C) Tıbbi rehabilitasyon
- D) Mesleki rehabilitasyon
- E) Birinci aşama koruyucu sağlık hizmeti

9. El temizliği ile ilgili aşağıdaki ifadelerden hangisi doğrudur?

- A) El tımakları düz kesilmediğinde tımak batmalarına neden olabilir.
- B) Kesilen tımak kenarları antiseptik maddeyle temizlenmemelidir.
- C) Tımak kenarlarında oluşan sertleşmiş deri parçaları koparılmalıdır.
- D) El tımakları kesildikten sonra mutlaka sabunla yıkanmalıdır.
- E) El tımakları düz kesilmelidir.

10. Sigaranın sağlığa zararları ile ilgili aşağıdaki ifadelerden hangisi yanlıştır?

- A) Sigara kalp krizi riskini artırır.
- B) Sigara, rahim ağzı kanserinin en önemli nedenidir.
- C) Sigara kullanan annelerin bebeklerinde zeka geriliği riski yüksektir.
- D) Sigara hücre yapısını bozar
- E) Sigara damar yapısının bozulmasına neden olur.

2012 3D 0105-B

11. Sağlık açısından sigara, alkol ve uyuşturucu madde kullanımıyla ilişkili ilk kavram aşağıdakilerden hangisidir?

- A) İrade
- B) Zayıflık
- C) Bağımlılık
- D) Keyif
- E) Yoksunluk

12. Kişinin kendisi ve çevresiyle dengeli ve uyumlu bir ilişki sürdürebilmesine ne ad verilir?

- A) Ruh sağlığı
- B) Ruh bilimi
- C) Kültürel etkinlik
- D) Gelişme
- E) Etkileşim

13. Aşağıdaki maddelerden hangisi dişlerde çürük oluşumunu engelleyerek diş sağlığını olumlu yönde etkiler?

- A) Çinko
- B) Flor
- C) İyot
- D) Magnezyum
- E) Demir

14. Aşağıdakilerden hangisi alkol kullanımının sebeplerinden biri değildir?

- A) Ekonomik zorluklar yaşama
- B) Saygı göreceğini düşünme
- C) Kişiliğin oturmuş olması
- D) Bir gruba dahil olma isteği
- E) Sorunlarla baş edebilme gücünü kendinde bulamama

15. Siroz aşağıdaki organlardan hangisinin hastalığıdır?

- A) Akciğer
- B) Bağırsaklar
- C) Mide
- D) Karaciğer
- E) Göz

16. Aşağıdakilerden hangisi ergenlik döneminde hem kızlarda hem de erkeklerde görülen fiziksel değişimdir?

- A) Adet döngüsü
- B) Boy ve kilo artışı
- C) Sesin kalınlaşması
- D) Sakal ve bıyığın çıkması
- E) Göğüslerin belirginleşmesi

17. Sağlıklı bir yaşam için doğumdan itibaren büyüme ve gelişmede etkili olan, aşağıdaki faktörlerden hangisi anne ve babadan çocuklara geçen kalıtsal özellikleri ifade eder?

- A) Hormonal yapı
- B) Fiziki çevre
- C) Genetik
- D) Zararlı alışkanlıklar
- E) Beslenme

18. Özellikle yetişkinlik ve yaşlılık dönemlerinde toplumsal çatışmalar, kaygı ve stresin yaşanması aşağıdaki ruh sağlığını etkileyen kişisel faktörlerden hangisinin kapsamında yer alır?

- A) Cinsiyet
- B) Mesleki durum
- C) Medeni durum
- D) Kişinin alışkanlıkları
- E) Yaş

19. Cinsel olgunlaşmanın tamamlandığı dönem aşağıdakilerden hangisidir?

- A) Geç ergenlik dönemi
- B) Tam ergenlik dönemi
- C) Erken ergenlik dönemi
- D) Yetişkinlik dönemi
- E) Özerklik dönemi

20. Sigaranın bağımlılık yapmasına neden olan madde aşağıdakilerden hangisidir?

- A) Katran
- B) Aseton
- C) Naftalin
- D) Nikotin
- E) Karbonmonoksit

SEÇMELİ COĞRAFYA 4

B

2012 3D 0105-B

1. Yer şekillerinin engebeli, eğimin fazla olduğu yerlerde hidroelektrik enerji potansiyeli yüksek olur.

Buna göre aşağıdaki akarsularımızdan hangisinin hidroelektrik potansiyeli daha yüksektir?

- A) Fırat
- B) Susurluk
- C) Gediz
- D) Sakarya
- E) Küçük Menderes

2. Ege Bölgesinde makilerin kıydan iç kesimlere doğru genişlemesinde aşağıdakilerden hangisinin payı fazladır?

- A) Enlem
- B) Yükselti
- C) Ekvator'a olan uzaklık
- D) Meridyenler
- E) Dağların uzanış yönü

3. Türkiye'de aşağıdaki göllerden hangisi yoktur?

- A) Tektonik göller
- B) Moren set gölleri
- C) Volkanik göller
- D) Alüvyal set gölleri
- E) Heyelan set gölleri

4. Aşağıdakilerden hangisi ormanlardan elde edilen yan ürünlerden biridir?

- A) Tomruk
- B) Sunta
- C) Çam kozalağı
- D) Mobilya
- E) Parke

5. Köyaltı yerleşme tiplerinden olan divan tipi yerleşme aşağıdaki illerimizin hangisinde daha yaygın olarak görülür?

- A) Antalya, Mersin, Adana
- B) Sivas, Kayseri, Nevşehir
- C) Muğla, Denizli, Burdur
- D) Bolu, Karabük, Kastamonu
- E) Van, Bitlis, Siirt

6. Çay ve kivi yetiştirmek için en uygun toprak aşağıdakilerden hangisidir?

- A) Kahverengi orman toprakları
- B) Kırmızı Akdeniz toprakları
- C) Kahverengi bozkır toprakları
- D) Kestane renkli bozkır toprakları
- E) Kara topraklar

7. Aşağıdakilerden hangisi, Türkiye'de birbirinden farklı iklim özelliklerinin görülmesine kanıt değildir?

- A) Çeşitli tarım ürünlerinin yetiştirilmesi
- B) Doğal bitki örtüsünün farklılıklar göstermesi
- C) Turizm mevsiminin güneyde daha erken başlaması
- D) Çeşitli akarsu rejimlerinin görülmesi
- E) Dağınık ve toplu yerleşmelerin görülmesi

8. Ege kıyılarında yer almasına rağmen yükselti ve engebelenin fazla olması nedeniyle yerleşim alanları sınırlı, nüfus yoğunluğu az olan yöremiz aşağıdakilerden hangisidir?

- A) Kuşadası
- B) Büyük Menderes vadisi
- C) Menteşe
- D) Manisa
- E) Gediz ovası

9. Aşağıdakilerden hangisi akarsu kenarında kurulan şehirlerin özelliklerinden biri değildir?

- A) Geniş bir hinterlandı olması
- B) Verimli ve geniş tarım arazisine sahip olması
- C) Sanayisinin tarıma dayalı olması
- D) Ulaşım imkanına sahip olması
- E) İhtiyacı karşılayacak pazar ve alışveriş malzemeleri olması

10. Aşağıdakilerden hangisi Türkiye' de nüfus ve yerleşmenin dağılışını etkileyen beşeri faktörlerden biridir?

- A) Yeryüzü şekilleri
- B) İklim
- C) Su kaynakları
- D) Bitki örtüsü
- E) İç ve dış göçler

B

2012 3D 0105-B

11. Yağışın olduğu yerlerde nüfus yoğunluğu fazladır.

Bu özellik aşağıdaki yerlerden hangisi için geçerli değildir?

- A) Rize
- B) Ege kıyıları
- C) Trabzon
- D) Menteşe yöresi
- E) Antalya

12. Aşağıdakilerden hangisi makiyi oluşturan bitkilerden biridir?

- A) Laden
- B) Keçi boynuzu
- C) Diken çalısı
- D) Funda
- E) Yasemin

13. Daima batıya giderek aynı noktaya ulaşan ve böylece dünyanın yuvarlak olduğunu kanıtlayan denizci aşağıdakilerden hangisidir?

- A) Bartelmi Diyaz
- B) Kolomb
- C) Macellan
- D) Vasko dö Gama
- E) Ameriko Vespuçi

14. Elektronik iletişim aşağıdakilerden hangisiyle başlamıştır?

- A) Matbaanın icat edilmesiyle
- B) Kağıdın kullanılmasıyla
- C) Bilgisayarın icadıyla
- D) Telgraf hattının kurulmasıyla
- E) Yazının kullanılmasıyla

15. Aşağıdakilerden hangisi Türkiye' de geçici kır yerleşmelerinden biridir?

- A) Köy
- B) Dam
- C) Çiftlik
- D) Mahalle
- E) Başkent

16. Ülkemizde maki ve çalılıkların yaygın olarak görüldüğü dağlık alanlarda daha çok hangi tür hayvancılık yapılır?

- A) İnek
- B) Koyun
- C) İpek böceği
- D) Sığır
- E) Kıl keçisi

17. Panama Kanalı ile ilgili aşağıdaki ifadelerden hangisi doğrudur?

- A) Hint Okyanusu ve ötesine bağlantıyı sağlamıştır.
- B) Dünyada kapakları olmayan en uzun kanaldır.
- C) Mısır topraklarında bulunan ve Akdeniz ile Kızıldeniz' i birleştiren 161 km uzunluğunda su yoludur.
- D) Kanalin yapımına Fransız ve ABD işbirliğiyle 1880 yılında başlanmış 1914' te tamamlanmıştır.
- E) Karadan Afrika ve Asya' yı birbirine bağlar.

18. Kuzey ve Güney Amerika kıtaları arasında yer alan Büyük Okyanus ile Atlas Okyanusu'nu birleştiren kanal aşağıdakilerden hangisidir?

- A) Süveyş
- B) Panama
- C) Cebeli Tarık
- D) Hümmüz
- E) Babülmendep

19. 1927-2000 yılları arasında Türkiye'de şehir nüfusu köy nüfusuna göre daha çok artış göstermiştir. Şehir nüfusundaki artış hızının çok olmasında aşağıdakilerden hangisi daha çok etkilidir?

- A) Göçle gelen nüfusun artması
- B) Evli nüfusun artması
- C) Sağlık koşullarının iyileşmesi
- D) Ortalama ömrün uzaması
- E) Çocuk ölümlerinin azalması

20. Bir ülkenin kırsal alanlarında ve kentlerinde bulunan nüfus miktarları, o ülkenin aşağıdaki özelliklerinden hangisini gösterir?

- A) Kültürel yapısını
- B) Geleneklerini
- C) Ekonomik ve sosyal yapısını
- D) Coğrafi yapısını
- E) Siyasi durumunu

SEÇMELİ TÜRK EDEBİYATI 5

B

2012 3D 0105-B

1. "Vatan, millet, özgürlük, hak, eşitlik, adalet, uygarlık" gibi kavramların edebiyata ilk olarak girdiği dönem aşağıdakilerden hangisidir?

A) Yükselme
B) I.Meşrutiyet
C) Kuruluş
D) Tanzimat
E) II.Meşrutiyet

2. Ziya Paşa ile ilgili aşağıdaki bilgilerden hangisi yanlıştır?

A) "Zavallı Çocuk" adlı eseri yazmıştır.
B) Tanzimat Edebiyatı şair ve yazarlarındandır.
C) Yeni Osmanlılar Cemiyetine girmiştir.
D) Londra'da "Hürriyet" gazetesini çıkarmıştır.
E) Meşrutiyet yönetimini savunmuştur.

3. Tanzimat Fermanı'nı ilan eden kişi aşağıdakilerden hangisidir?

A) I.Abdülmecit
B) II.Mahmut
C) II.Abdülhamit
D) Vahdettin
E) I. Mahmut

4. Aşağıdakilerden hangisi Tanzimat sanatçılarından biri değildir?

A) Namık Kemal
B) Recaizâde Mahmut Ekrem
C) Şinasi
D) Ahmet Mithat Efendi
E) Yahya Kemal Beyatlı

5. Noktalama işaretlerini ilk defa kullanan yazar, aşağıdakilerden hangisidir?

A) Muallim Naci
B) Nabizâde Nazım
C) Şinasi
D) Ziya Paşa
E) Namık Kemal

6. Gerçeğin hayal dünyasında yeniden şekillendiği metinlere ne ad verilir?

A) Yazılı metin
B) Hayalî metin
C) Edebî metin
D) Hikâye
E) Kurmaca metin

7. Aşağıdaki yazarlardan hangisi, Tanzimat döneminde tiyatro uyarlamalarıyla önde gelen sanatçılardan biridir?

A) Ziya Paşa
B) Ahmet Cevdet Paşa
C) Orhan Asena
D) Şemsettin Sami
E) Ahmet Vefik Paşa

8. Edebiyat ile ilgili aşağıdaki ifadelerden hangisi yanlıştır?

A) Toplumların gelişimine katkıda bulunur.
B) Tarih biliminden yararlanır.
C) Toplumların siyasal ve sosyal yapısından etkilenir.
D) Sadece tanık olduğu çağı anlatır.
E) Düşünceleri geliştirir, duyguları zenginleştirir.

9. Ölen bir kişinin ardından onun kahramanlıklarını, yititliklerini anlatmak için yazılan eserlere ne ad verilir?

A) Rubai
B) Terkibibent
C) Terciibent
D) Mersiye
E) Murabba

10. 1860 yılında Şinasi ve Ağâh Efendi tarafından çıkarılan ilk özel gazete, aşağıdakilerden hangisidir?

A) Tasvir-i Efkâr
B) Ceride-i Havadis
C) Tercüman-ı Ahvâl
D) Tercüman-ı Hakikat
E) İbret

B

2012 3D 0105-B

11. Türk edebiyatında Recaizâde Mahmut Ekrem tarafından yazılan ilk realist roman, aşağıdakilerden hangisidir?

- A) Küçük Şeyler
- B) Cezmi
- C) Taaşuk-ı Talat ve Fitnat
- D) Son Pişmanlık
- E) Araba Sevdası

12. Tanzimat şiiri ile ilgili olarak aşağıdakilerden hangisi söylenemez?

- A) Halkın anlayabileceği yalın bir dille yazıldığı
- B) Genelde aruz ölçüsü kullanıldığı
- C) Yeni fikirlerin önceleri eski biçimlerle, daha sonra yeni nazım şekilleriyle ele alındığı
- D) Konu bütünlüğüne önem verildiği
- E) Hak, adalet, hürriyet, esaret, vatan, millet gibi kavramların kullanıldığı

13. Aşağıdaki şair ve yazarlardan hangisi toplumsal konular yerine bireysel konularda yazmayı yeğleyen sanatçılardan biridir?

- A) Ahmet Mithat Efendi
- B) Şinasi
- C) Sami Paşazâde Sezaî
- D) Namık Kemal
- E) Ziya Paşa

14. Romantizmden realizme geçişin bir göstergesi sayılan Sami Paşazâde Sezaî tarafından yazılan roman, aşağıdakilerden hangisidir?

- A) İntibah
- B) Sergüzeşt
- C) Cezmi
- D) Eşber
- E) İçli Kız

15. İyi bir eğitim alarak yetişen Ali Bey'in düşmüş bir kadınla kurduğu ilişkiden doğan kötü sonuçların ele alındığı "İntibah" romanını kim yazmıştır?

- A) Hüseyin Rahmi Gürpınar
- B) Namık Kemal
- C) Ahmet Mithat Efendi
- D) Muallim Naci
- E) Abdülhak Hâmit Tarhan

16. Türk Edebiyatında yeniliklerin öncüsü olan, noktalama işaretlerini ilk defa kullanan, La Fontaine'den tercümeler yapan ve "Şair Evlenmesi" adlı ilk piyesi yazan sanatçı aşağıdakilerden hangisidir?

- A) Namık Kemal
- B) Ahmet Mithat Efendi
- C) Ziya Paşa
- D) Şinasi
- E) Recaizâde Mahmut Ekrem

17. Tanzimat döneminde, aşağıdaki Fransız şair ve yazarların hangisinden çeviri yapılmamıştır?

- A) Balzac
- B) Victor Hugo
- C) Lamartine
- D) J.J. Rousseau
- E) Fenelon

18. 1860 yılında ilk özel gazete "Tercüman-ı Ahvâl"i çıkaran yazarlar aşağıdakilerden hangisinde verilmiştir?

- A) Namık Kemal ve Recaizâde Mahmut Ekrem
- B) Şinasi ve Agâh Efendi
- C) Şinasi ve Namık Kemal
- D) Ziya Paşa ve Abdülhak Hâmit
- E) Ziya Paşa ve Muallim Naci

19. Sami Paşazâde Sezâî'nin tutsaklık ve insan ticareti üzerine yazmış olduğu eser aşağıdakilerden hangisidir?

- A) Küçük Şeyler
- B) Sergüzeşt
- C) İntibah
- D) Harabat
- E) Araba Sevdası

20. Aşağıdaki yazarlardan hangisi Birinci Dönem Tanzimat edebiyatının önemli temsilcilerinden biri değildir?

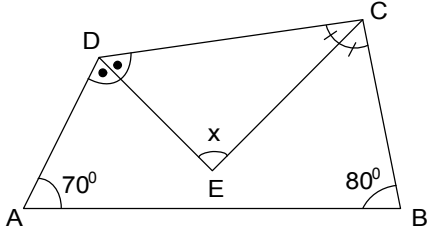
- A) Ziya Paşa
- B) Ahmet Mithat Efendi
- C) Recaizâde Mahmut Ekrem
- D) Namık Kemal
- E) Şinasi

GEOMETRİ 5

B

2012 3D 0105-B

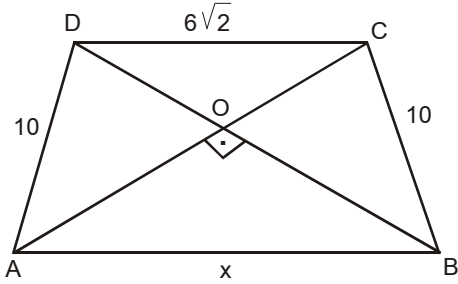
1.



Yukarıdaki dörtgende $m(\hat{A}) = 70^\circ$ ve $m(\hat{B}) = 80^\circ$ ise, $m(\widehat{DEC}) = x$ kaç derecedir?

- A) 60
- B) 65
- C) 70
- D) 75
- E) 80

2.



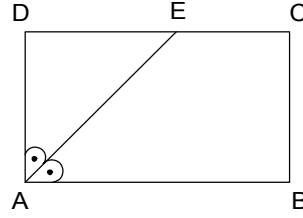
ABCD ikizkenar yamuğunda köşegenler birbirine dik ve $|AD| = |CB| = 10$ cm, $|DC| = 6\sqrt{2}$ cm ise, $|AB| = x$ kaç cm dir?

- A) $8\sqrt{2}$
- B) 12
- C) $8\sqrt{3}$
- D) 15
- E) $10\sqrt{2}$

3. Köşegenlerinin uzunlukları 10 cm ve 24 cm olan eşkenar dörtgenin çevresi kaç cm dir?

- A) 48
- B) 52
- C) 60
- D) 76
- E) 84

4.



Yukarıdaki ABCD dikdörtgeninde, $[AE]$

açıortay, $\frac{|EC|}{|DE|} = \frac{2}{3}$ ve $A(ABCD) = 60$ br²

olduğuna göre, ABCD dikdörtgeninin çevresi kaç br dir?

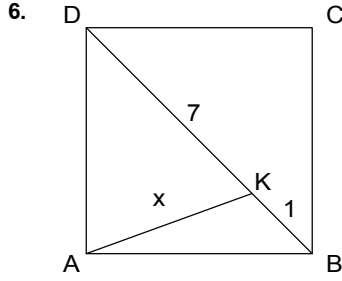
- A) 28
- B) 30
- C) 32
- D) 38
- E) 44

5. 6 kenarlı bir konveks çokgenin kaç köşegeni vardır?

- A) 9
- B) 12
- C) 15
- D) 18
- E) 21

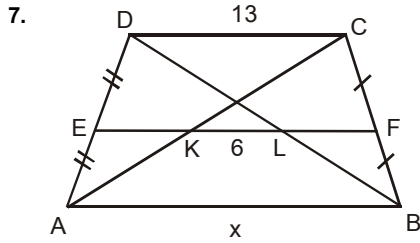
B

2012 3D 0105-B



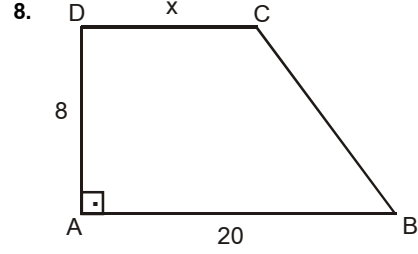
Yukarıdaki ABCD karesinde, $|BK| = 1$ br, $|DK| = 7$ br ise $|KA|$ kaç br'dir?

- A) 4
- B) 4,5
- C) 5
- D) 5,5
- E) 6



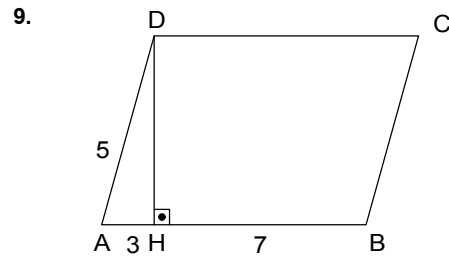
Yukarıdaki ABCD yamuğunda, [EF] orta taban $|KL| = 6$ cm, $|CD| = 13$ cm ise, $|AB| = x$ kaç cm dir?

- A) 18
- B) 20
- C) 23
- D) 25
- E) 28



Yukarıdaki ABCD dik yamuğunda $|AD| = 8$ cm, $|AB| = 20$ cm ve $A(ABCD) = 128$ cm² ise, $|DC| = x$ kaç cm dir?

- A) 10
- B) 12
- C) 14
- D) 15
- E) 16

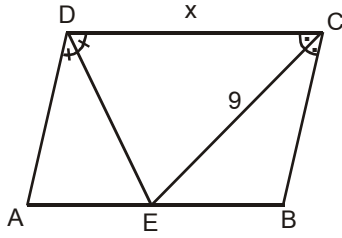


Yukarıdaki ABCD paralelkenarında, $[AB] \perp [DH]$, $|AH| = 3$ br, $|AD| = 5$ br ve $|BH| = 7$ br ise, $A(ABCD)$ kaç br² dir?

- A) 20
- B) 36
- C) 40
- D) 48
- E) 60

2012 3D 0105-B

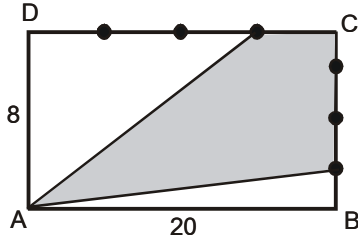
10.



Yukarıdaki ABCD paralelkenarında, [DE] ve [CE] açıortay, $|CE| = 9$ cm ve $A(ABCD) = 108 \text{ cm}^2$ ise, $|DE| = x$ kaç cm dir?

- A) 15
- B) 14
- C) 13
- D) 12
- E) 10

11.



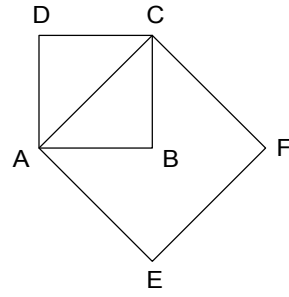
Yukarıdaki ABCD dikdörtgeninde [DC] ve [BC] kenarları dört eşit parçaya bölünmüştür. $|AB| = 20$ cm ve $|AD| = 8$ cm ise, taralı bölgenin alanı kaç cm^2 dir?

- A) 120
- B) 100
- C) 80
- D) 75
- E) 60

12. Köşegen uzunlukları 12 cm ve 28 cm olan eşkenar dörtgenin alanı kaç cm^2 dir?

- A) 84
- B) 112
- C) 146
- D) 152
- E) 168

13.



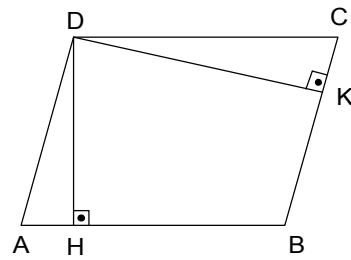
Yukarıdaki şekilde ABCD karesinin alanı 16 br^2 ise, AEFC karesinin çevresi kaç br dir?

- A) 8
- B) $8\sqrt{2}$
- C) 16
- D) $16\sqrt{2}$
- E) 32

14. Bir dış açısının ölçüsü 45° olan n kenarlı düzgün bir çokgenin köşegen sayısı kaçtır?

- A) 27
- B) 20
- C) 18
- D) 14
- E) 9

15.



Yukarıdaki ABCD paralelkenarında, $[DH] \perp [AB]$, $[DK] \perp [BC]$, $|AB| = 12$ br, $|BC| = 6$ br ve $|DH| = 4$ br ise, $|DK|$ kaç br'dir?

- A) 8
- B) 9
- C) 10
- D) 12
- E) 16

2012 3D 0105-B

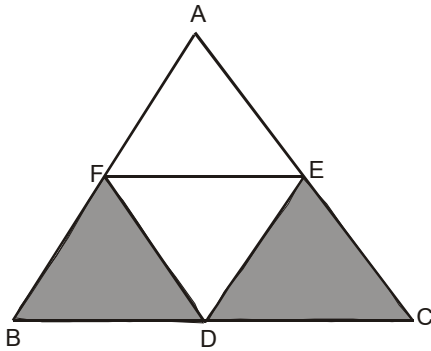
16. Bir iç açısının ölçüsü 140° olan bir düzgün çokgenin köşegen sayısı kaçtır?

A) 14
B) 20
C) 27
D) 32
E) 35

17. Kenar uzunluğu $2\sqrt{3}$ cm olan eşkenar üçgenin alanı kaç cm^2 dir?

A) $\sqrt{3}$
B) $3\sqrt{3}$
C) $4\sqrt{3}$
D) $6\sqrt{3}$
E) $12\sqrt{3}$

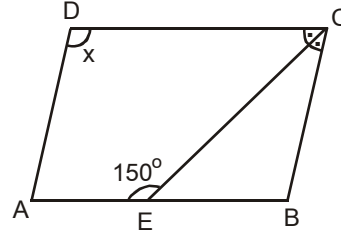
18.



Yukarıdaki ABC eşkenar üçgeninde [FE], [FD], [DE] orta taban ve $A(ABC) = 12\sqrt{3} \text{ cm}^2$ ise, taralı bölgelerin alanları toplamı kaç cm^2 dir?

A) $2\sqrt{3}$
B) $3\sqrt{3}$
C) $4\sqrt{3}$
D) $6\sqrt{3}$
E) $8\sqrt{3}$

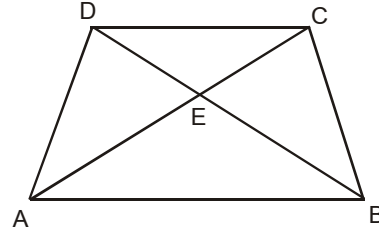
19.



Yukarıdaki ABCD paralelkenarında, $m(\widehat{DCE}) = m(\widehat{ECB})$ ve $m(\widehat{AEC}) = 150^\circ$ ise, $m(\widehat{ADC}) = x$ kaç derecedir?

A) 100
B) 110
C) 120
D) 135
E) 140

20.



Yukarıdaki ABCD yamuğunda, $\frac{|CE|}{|AE|} = \frac{1}{4}$ ve, $A(AED) = 48 \text{ cm}^2$ ise, $A(AEB)$ kaç cm^2 dir?

A) 108
B) 126
C) 134
D) 182
E) 192

SEÇMELİ DİL VE ANLATIM 8

B

2012 3D 0105-B

1. Aşağıdakilerden hangisi, Batı etkisinde gelişen Türk Edebiyatı nazım biçimlerinden biridir?

- A) Şarkı
- B) Tuyuğ
- C) Koşma
- D) Mani
- E) Sone

2. Agah Efendi ve Şinasi'nin 1860'da çıkardıkları ilk özel gazete hangisidir?

- A) Memleket
- B) İntibah
- C) Tercüman-Ahval
- D) Ceride-i Havadis
- E) Güneş

3. Milli ölçümüz olarak nitelendirilen ve halk edebiyatında sıkça kullanılan ölçü aşağıdakilerden hangisidir?

- A) Serbest ölçü
- B) Halk ölçüsü
- C) Aruz ölçüsü
- D) Hece ölçüsü
- E) Koşma ölçüsü

4. Aşağıdakilerden hangisi klasik Türk şiiri nazım biçimlerinden biri değildir?

- A) Mesnevi
- B) Semai
- C) Kaside
- D) Rubai
- E) Gazel

5. Divan şiiriyle ilgili aşağıdaki ifadelerden hangisi yanlıştır?

- A) Hece ölçüsüyle yazılır.
- B) Dili halk şiirine göre daha ağırdır.
- C) Arap ve Fars edebiyatlarının etkisi görülür.
- D) Nazım birimi beyittir.
- E) Yüzyıllar boyunca aynı nazım biçimleri ve aynı konuları işlemiştir.

6. Halk şiirine ilişkin aşağıdaki bilgilerden hangisi yanlıştır?

- A) Konu olarak tabiat güzellikleri, aşk, ayrılık ve gurbet gibi temaları işlemiştir
- B) Aruz ölçüsü kullanılmıştır.
- C) Ürünler saz eşliğinde söylenmiştir.
- D) Nazım birimi dördlüktür.
- E) Türklerin İslamiyeti kabulü öncesinden başlayarak günümüze kadar sürmüştür.

7. Türk edebiyatında makalenin gelişimine bakıldığında 1860'da ilk makale kim tarafından yazılmıştır?

- A) Nefi
- B) Baki
- C) Hüseyin Cahit
- D) Şinasi
- E) Namık Kemal

8. "Mor menevşe boynun eğmiş
Yapracığı suya değmiş"

Yukarıdaki dizede en belirgin edebi sanat aşağıdakilerden hangisidir?

- A) Kapalı istiare
- B) Açık istiare
- C) Tariz
- D) Mecaz-ı Mürsel
- E) Kinaye

9. Cinaslı sözcüklerin kafiye yapılması en çok nerede görülür?

- A) Manilerde
- B) Tıradlarda
- C) Divan edebiyatında
- D) Koşmalarda
- E) Destanlarda

10. Makalelerinde sürekli vatan, millet ve hürriyet temalarını işleyen yazar, aşağıdakilerden hangisidir?

- A) Şinasi
- B) Hüseyin Cahit Yalçın
- C) Ali Naci Karacan
- D) Namık Kemal
- E) Ahmet Emin Yalman

B

2012 3D 0105-B

11. Yazar, düşünür ve sanatçıların veya kendi alanında uzman olan kişilerin bir konuyu açıklamak, tanıtmak, bilgi vermek, öğretmek amacıyla yola çıkarak yaptıkları konuşmalara ne ad verilir?

- A) Münazara
- B) Konferans
- C) Açık oturum
- D) Forum
- E) Söylev

12. Söylenen sözün ya da kavramın gerçek ve mecazlı anlamı dışında büsbütün tersini söyleme sanatı aşağıdakilerden hangisidir?

- A) Mecaz-ı mürsel
- B) Temsili istiare
- C) Tariz
- D) Cinas
- E) Kinaye

13. Aşağıdakilerden hangisi "Münazara" yapılırken uyulması gereken kurallardan biri değildir?

- A) Söylenmiş düşünceleri, daha önceden verilmiş örnekleri tekrarlamamak
- B) Düşünceleri anlaşılır, açık ve kısa söylemek
- C) Karşıt görüşleri birleştirmeye çalışmak
- D) Toplantılara sorunların çözümü için öneriler hazırlayarak gelmek
- E) Gerektiğinde tartışma konusunun dışına çıkmak

14. Şiiri oluşturan dörder, beşer ya da daha fazla dizelik kümelere ne ad verilir?

- A) Beyit
- B) Bend
- C) Gazel
- D) Mısra
- E) Mısra-ı berceste

15. Şiirde art arda gelen mısralar içinde birbirine benzeyen seslerin sık ve ahenk sağlayacak güzellikte kullanılmasına ne ad verilir?

- A) Uyak
- B) Kafiye
- C) Aliterasyon
- D) Cinas
- E) Benzetme

16. Hecelerin uzunluk ve kısalığına dayanan ölçü aşağıdakilerden hangisidir?

- A) Sekizli ölçü
- B) Hece ölçüsü
- C) Dize ölçüsü
- D) Aruz ölçüsü
- E) Ahenk ölçüsü

17. Bir sorun üzerinde bütün ilgililerin görüşlerini öğrenmek için yapılan toplantı türüne ne ad verilir?

- A) Söylev
- B) Konferans
- C) Münazara
- D) Panel
- E) Forum

18. Bilim insanlarının bir konunun çeşitli yönlerini inceleyip görüş bildirdikleri toplantılara ne ad verilir?

- A) Sempozyum
- B) Söylev
- C) Açık oturum
- D) Münazara
- E) Konferans

19. Bir konuyu, bir olayı, bir eseri ele alıp çeşitli özelliklerini ayrıntılarıyla inceleyen ve onunla ilgili birtakım sonuçlara ulaşan ya da bir görüşü, bir iddiayı belge ve kanıtlarla destekleyerek savunan yazılara ne ad verilir?

- A) Mülakat
- B) Eleştiri
- C) Makale
- D) Fıkra
- E) Deneme

20. Sempozyum ile ilgili aşağıdaki ifadelerden hangisi yanlıştır?

- A) Her sempozyumda önceden belirlenmiş bir konuşmacı grubu bulunur.
- B) Her oturumun mutlaka bir başkanı bulunur.
- C) Metinler dinleyicilerin dikkatlerini dağıtmadan sunulur.
- D) Sanat ve bilim konularında uzmanlaşmış kişilerin bir araya gelerek sorunlarını tartışmak, açıklamak ve bir sonuca ulaşmak için yapılır.
- E) İsteyen herkes katılabilir, özel davetli olmak gerekmez.

SINAVDA UYGULANACAK KURALLAR

1. Sınav süresince görevlilerle konuşmak ve soru sormak yasaktır. Aynı şekilde görevlilerin de öğrencilerle yakından ve alçak sesle konuşmaları yasaktır. Yanınızda ve sıranızda dersle ilgili kitap not vb. bulundurmamak yasaktır. Sınav sırasında kopya yapan, yapmaya teşebbüs eden, kopya veren, kopya yapılmasına yardım edenlerin kimlikleri BİREYSEL SINAV İPTAL TUTANAĞINA yazılacak ve bu öğrencilerin sınavları geçersiz sayılacaktır. Görevliler kopya yapmaya veya vermeye kalkışanları uyarmak zorunda değildir, sorumluluk size aittir.
Sınavda yetki verilmiş görevliler, bu salondaki sınavın kurallara uygun biçimde yapılmadığını, toplu kopya girişiminde bulunulduğunu raporlarında bildirdikleri veya üniversite sınav merkezince yapılan incelemeler sonucu toplu kopya yapıldığı saptandığı takdirde, Anadolu Üniversitesinin yetkili organları bu salonda sınava giren öğrencilerin tümünün sınavını geçersiz sayar.
2. Öğrenciler sınav sırasında görevlilerin her türlü uyarılarına uymak zorundadır. Gerekğinde görevliler oturduğunuz yerleri değiştirebilir. Sınavınızın geçerli sayılması, her şeyden önce sınav kurallarına uymanıza bağlıdır. Kurallara aykırı davranışta bulunanların ve yapılacak uyarılara uymayanların kimlikleri BİREYSEL SINAV İPTAL TUTANAĞINA yazılacak ve sınavları geçersiz sayılacaktır.
3. Sınav sırasında herhangi bir nedenle dışarı çıkmak yasaktır. Sınavın başlamasını izleyen ilk 30 dakika ve sınav süresinin son 5 dakikası içinde, sınavlarını tamamlasalar bile hiçbir öğrencinin salondan çıkmasına izin verilmeyecektir. Sınavın başlamasını izleyen ilk 15 dakikadan sonra hiç bir öğrenci sınava alınamaz.
4. Biraz sonra soru kitapçıkları dağıtılacaktır. Cevaplamaya geçmeden önce size verilecek soru kitapçığının üzerinde ayrılan yere, adınızı, soyadınızı, öğrenci numaranızı ve bu salonun numarasını yazınız. Sınav sonunda soru kitapçıkları toplanacak ve sınav merkezinde tek tek incelenecektir. Soru Kitapçığının bir tek sayfası eksik çıksa bile sınavınız geçersiz sayılacaktır.
5. Size verilen Cevap Kâğıdının üzerinde yazan numara ve ismin size ait olduğunu kontrol ediniz. Cevap Kâğıdı size ait değilse, görevlileri uyarıp size ait Cevap Kâğıdını alınız. Daha sonra Cevap Kâğıdı üzerinde ayrılmış olan yerlere öğrenci numaranızı ve test grubunuzu kodlayınız, adınızı soyadınızı yazınız ve ilgili yeri imzalayınız.
6. Cevap Kâğıdına yazılacak her türlü yazı, rakam ve yapılacak işaretlemeler için siyah kurşun kalem kullanılacaktır. Tükenmez kalem veya dolmakalem kesinlikle kullanılmayacaktır. Cevapların tümü CEVAP KÂĞIDINA İŞARETLENECEKTİR. Soru Kitapçıkları üzerine yapılan işaretlemeler kesinlikle değerlendirilmez. Her dersin cevabı, o dersin isminin yazılı olduğu sütuna işaretlenmelidir. Yanlış sütuna yapacağınız işaretlemeler kesinlikle değerlendirilmez.
7. Soru Kitapçığının sayfalarındaki boş yerleri müsvedde yapmak için kullanabilirsiniz. Başka bir kâğıdı müsvedde olarak kullanmak yasaktır. Bu tür işlemleri yapanların sınavları geçersiz sayılır.
8. Öğrencilerin sorulara verdikleri yanıtları herhangi bir yere yazmaları ve bunu sınav salonundan dışarıya çıkarmaları yasaktır. Bu kurala uymayanların sınavları geçersiz sayılır.
9. Sınav sırasında öğrencilerin birbirinden kalem, silgi vb. şeyleri istemesi kesinlikle yasaktır. Yasağa uymayanların sınavı geçersiz sayılır.
10. Sınav sırasında hesap makinesi kullanılabilir. Ancak, hesap makinesinin sınav sırasında ödünç alınması, verilmesi ve değiştirilmesi yasaktır. (Data Bank vb. gibi özel elektronik donanımlar kullanılamaz.) Bu tür davranışlarda bulunanların sınavları geçersiz sayılır.
11. Öğrenciler sınava gelirken telsiz, cep telefonu, çağrı cihazı vb. iletişim araçları ile görüntü kaydetmeye yarayan fotoğraf makinesi, kamera vb. araçları getirmemeleri konusunda sınava giriş belgelerinde uyarılmışlardır. Buna rağmen yanlarında bu tür cihazları getirenlerin, bunları sınav sonrasında almak üzere salon başkanına teslim etmeleri gerekir. Bu cihazları sınav salonunda yanlarında bulunduran öğrencilerin, cihazları kapalı bile olsa, o oturumdaki sınavı geçersiz sayılacaktır. Bu cihazların kaybolmasından Üniversitemiz sorumlu olmayacaktır.
12. Biraz sonra dağıtılacak olan soru kitapçığında test ile ilgili açıklamalar yazılıdır. Bu açıklamaları okumadan ve size "SINAV BAŞLAMISHTIR" denmeden soruları cevaplamaya başlamayınız.

SINAVLARINIZDA BAŞARILAR DİLERİZ.